

**MATEMÁTICAS PRIMER GRADO**  
**TEMA: LA CENTENA**

**Realiza las siguientes actividades**

**1. Une cada número con su nombre correcto.**

Doscientos	100
Seiscientos	800
Trescientos	200
Ochocientos	600
cien	300


**2. Marca los billetes hasta formar una centena:**



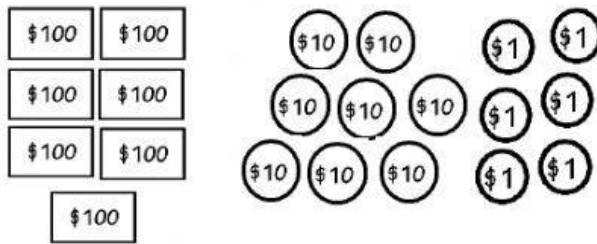
**3. Completa lo siguiente. Cuenta de 100 en 100 hasta llegar a 900.**

<div>100</div>	<div></div>	<div>300</div>	<div></div>	<div>500</div>
cien	doscientos	_____	_____	_____
<div></div>	<div>700</div>	<div></div>	<div>900</div>	
seiscientos	_____	ochocientos	_____	

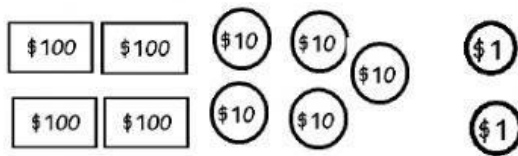
4. Observa y escribe las centenas, decenas y unidades que hay en las imágenes:



Centenas	Decenas	Unidades



Centenas	Decenas	Unidades



Centenas	Decenas	Unidades