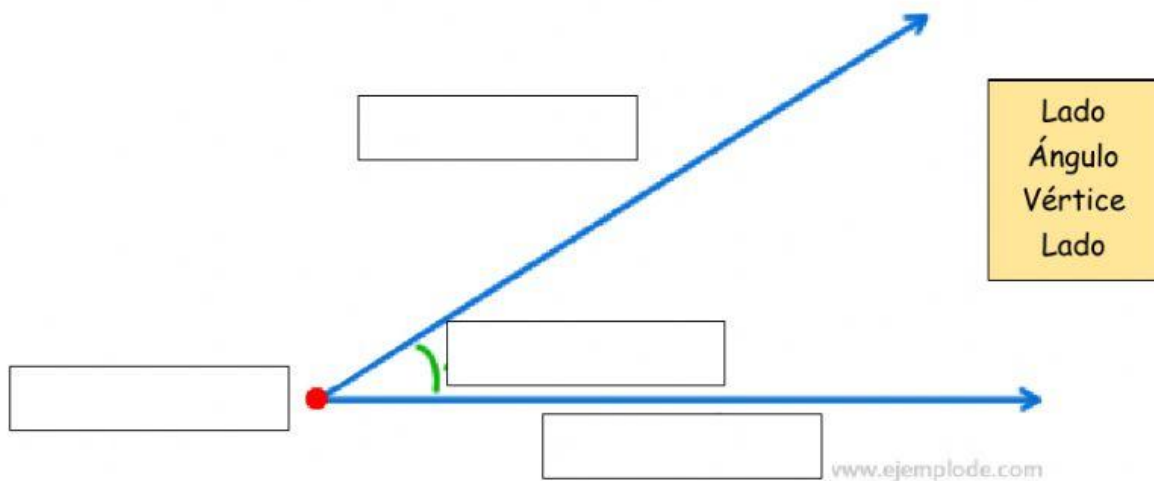


EXAMEN DE GEOMETRÍA

GRADO: TERCERO

DOCENTE: MARÍA JOSÉ BERMEJO GÓMEZ

1. Completa las partes del ángulo con los nombres que correspondan:



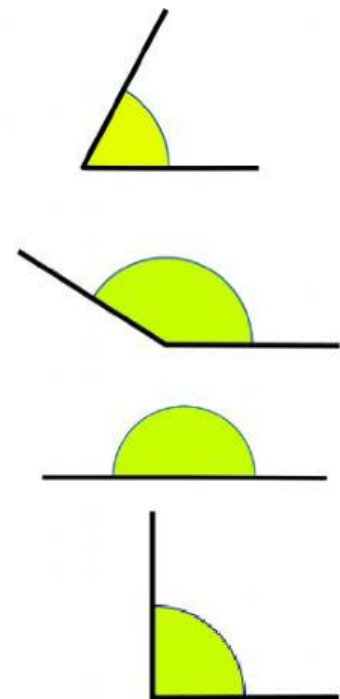
2. Une cada tipo de ángulo con la imagen correcta:

Ángulo Recto



Ángulo Agudo

Ángulo Obtuso

Ángulo Llano

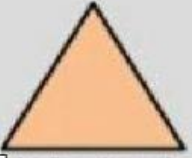

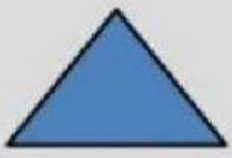

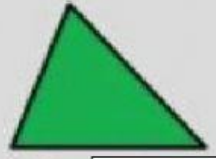



3. ¿Cuántos ángulos internos tiene un triángulo? Selecciona la respuesta correcta.



4. ¿Cómo se clasifican los triángulos según la longitud de sus LADOS?

5. Completa la siguiente tabla:

Lados		Ángulos	
Equilátero	 <input type="text"/> lados iguales	<input type="text"/>	 3 ángulos agudos
<input type="text"/>	 2 lados iguales	Rectángulo	 1 ángulo <input type="text"/>
Escaleno	 3 lados <input type="text"/>	<input type="text"/>	 1 ángulo obtuso