


# PROBLEMAS DE LA PÁGINA 145

- 4 Alejandro y Andrés participan en una carrera de 10 km. Alejandro ha recorrido 6,4 km, y Andrés, 6,6 km. ¿Quién va por delante? ¿Cuántas décimas de kilómetro les separan? →

décimas




- 5 Expresa con un número decimal cada uno de los colores que aparecen en el rectángulo. ¿Qué color es el más abundante? ¿Cuál aparece menos?

AMARILLO

AZUL


ROJO

VERDE



- 6 En una competición de salto de trampolín se han obtenido las siguientes puntuaciones en la última ronda:

Nombre	Puntuación
María	9,1
Antonio	9,3
Manuel	8,7
Blanca	8,9
Jorge	8,4
Margarita	8,3
Joaquín	9



PRIMERO SEGUNDO TERCERO

- a) ¿Quiénes han sido los tres primeros?  
 b) ¿Quién quedó último?  
 c) ¿Cuántos han sacado más de 8,7 puntos?

PARTICIPANTES