




Prueba de competencias desarrolladas

1. Cuenta y une con el número que corresponda.



7



5


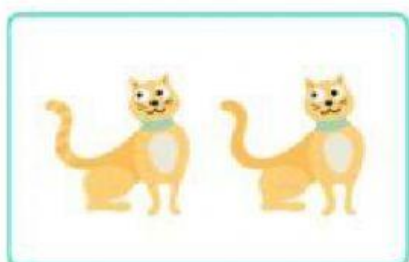
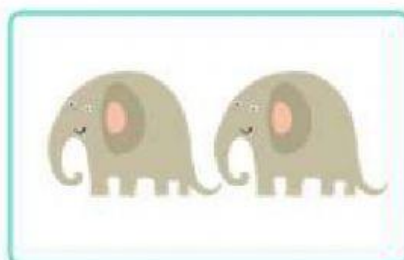





4


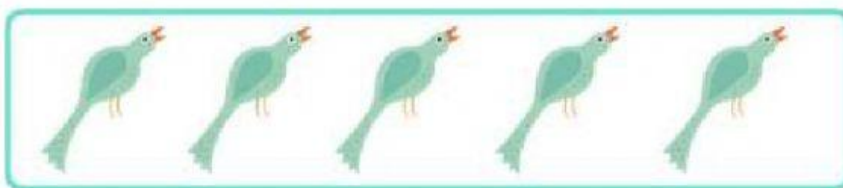


9


2. Cuenta y une los grupos que tengan la misma cantidad de elementos



3. Cuenta y has click sobre el que tiene más animales.



4. Cuenta y has click sobre el que tiene menos animales.



5. Escucha el problema, realiza la operación correspondiente y completa con la respuesta.


A. José tiene 9 frutillas y se come 3 ¿Cuántas frutillas le quedan?



A José le quedan:

- a) 3 frutillas.
- b) 9 frutillas.
- c) 6 frutilla

B) Hay 3 peces en una pecera, si le agregamos 2 peces ¿Cuántos peces hay en total?



En total hay:

- A) 3 peces.
- B) 5 peces.
- C) 2 peces.


6. Une con una línea según las pistas.

Tengo 3 lados


Tengo 4 lados iguales



7. Observa. Luego marca la figura que continua la secuencia.



8. Escucha y señala el dibujo que corresponda.



9. Observa. Luego marca los zapatos que no tiene tacones.

