



Control Números.


Nombre: _____

OA.: Representar y describir números del 0 al 10.000 (Escritura, comparación, orden en la recta numérica, descomposición aditiva)

Resolver adiciones y sustracciones.

Resolver problemas que impliquen adiciones y sustracciones.

I.- Escritura de números. Escucha atentamente y escribe el número dictado. (4 pts)



II.- Compara los siguientes números colocando $>$ $<$ o $=$ (2ptos.)

6.784

6.748

14.129

16.784

2.734

1.884

884

6.784

III.- Descomponer aditivamente los siguientes números.

(recuerda: $123 = 100 + 20 + 3$) (2 ptos)

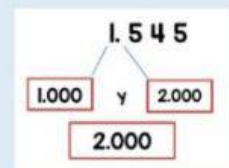
8.653

2.476

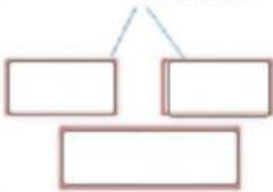
653

5.317

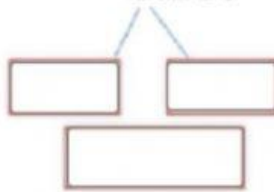
IV.- a) Aproxima a la unidad de mil. (3 ptos)



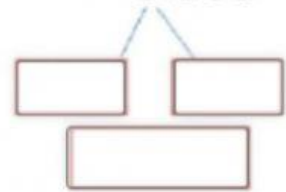
9.652



8.237

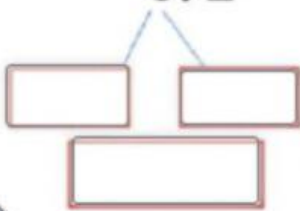


5.503

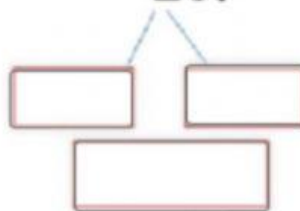


b) Aproxima a la centena. (3 ptos)

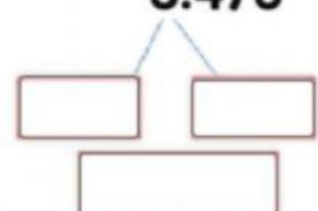
872



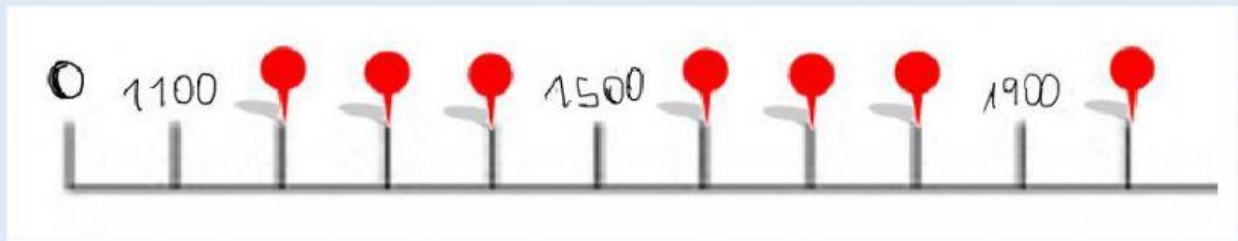
267



3.478



Ubica los números en la recta numérica (3 ptos)



1800

1400

1700

1600

2000

1300

IV.- Resuelve los siguientes ejercicios. (6 ptos)

$$\begin{array}{r} 256 \\ + 327 \\ \hline 164 \end{array}$$

$$\begin{array}{r} 364 \\ + 327 \\ \hline 212 \end{array}$$

$$\begin{array}{r} 3487 \\ + 5464 \\ \hline \end{array}$$

$$\begin{array}{r} 524 \\ - 269 \\ \hline \end{array}$$

$$\begin{array}{r} 735 \\ - 438 \\ \hline \end{array}$$

$$\begin{array}{r} 4595 \\ - 3104 \\ \hline \end{array}$$

Piensa y resuelve (3 ptos)

- Encima de la mesa había 12 fichas. He cogido 3 fichas con la mano derecha y 2 fichas con la izquierda.

Encima de la mesa quedan fichas.