

|  |                         |
|--|-------------------------|
| PROFESSOR (A): CILENE CORREIA                | TURMA: 3º ANO           |
| ALUNO (A):                                   | DATA: <u>13/04/2021</u> |
| PROVA DE MATEMÁTICA / VALOR:10 / NOTA: _____ | UNIDADE I               |

**INSTRUÇÕES:**

- Leia as questões com atenção.
  - Não deixe questão sem resposta.
  - Marque apenas uma resposta por questão.
  - Responda as questões com um lápis. Evite apagar a resposta mais de uma vez.
  - **Somente as questões 9 e 10 são abertas, ou seja, você terá que escrever as respostas.**
- 1- Observe as figuras geométricas e marque um X no nome correto de cada uma delas.

|   |   |   |   |  |
|---|---|---|---|--|
|  |  |  |  |  |
| <input type="checkbox"/> CÍRCULO  | <input type="checkbox"/> CÍRCULO  | <input type="checkbox"/> CÍRCULO  | <input type="checkbox"/> CÍRCULO  |  |
| <input type="checkbox"/> RETÂNGULO  | <input type="checkbox"/> RETÂNGULO  | <input type="checkbox"/> RETÂNGULO  | <input type="checkbox"/> RETÂNGULO  |  |
| <input type="checkbox"/> QUADRADO   | <input type="checkbox"/> QUADRADO   | <input type="checkbox"/> QUADRADO   | <input type="checkbox"/> QUADRADO   |  |
| <input type="checkbox"/> TRIÂNGULO  | <input type="checkbox"/> TRIÂNGULO  | <input type="checkbox"/> TRIÂNGULO  | <input type="checkbox"/> TRIÂNGULO  |  |

- 2- Relacione as imagens das figuras geométricas espaciais aos seus nomes.



( ) ESFERA



( ) CILINDRO



( ) PARALELEPÍPEDO



( ) CUBO



( ) PIRÂMIDE


(A) 4

(B) 5

(C) 6

(D) 7

- 3- Quantas triângulos aparecem no desenho?



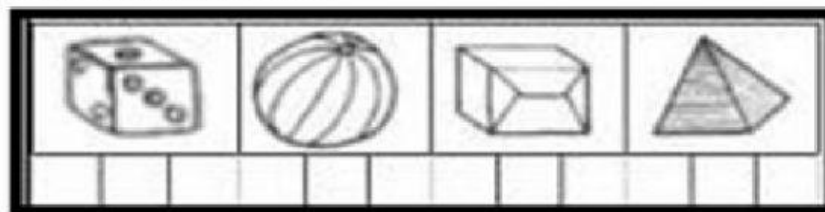
a) ( ) 4

b) ( ) 5

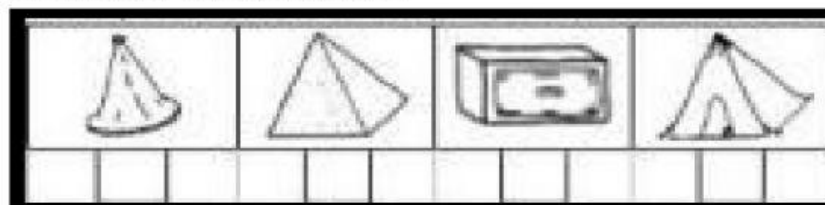
c) ( ) 6

d) ( ) 7

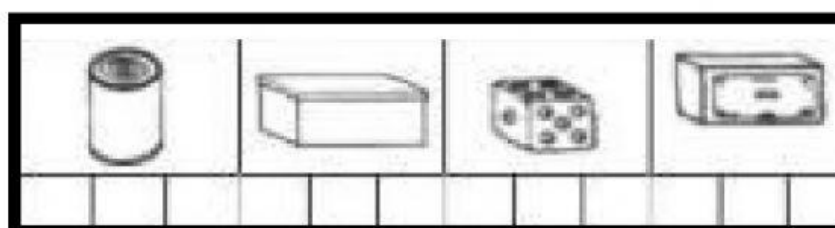
4- Qual imagem representa um cubo?




5- Quais imagens lembram uma pirâmide?



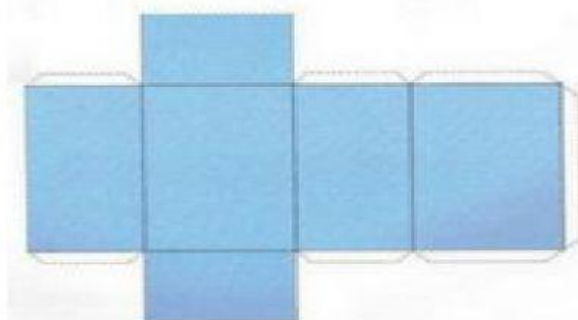
6- Marque um X nas imagens que lembram um paralelepípedo.



7- Faça um X nos objetos que lembram figuras geométricas espaciais que dependendo da posição podem rolar.

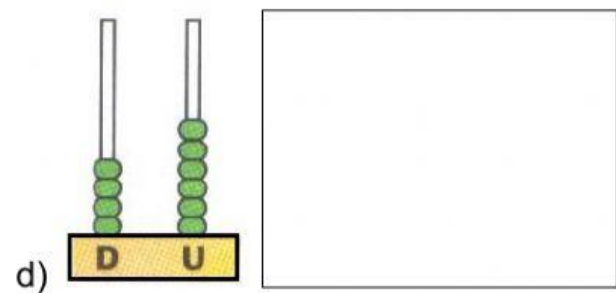
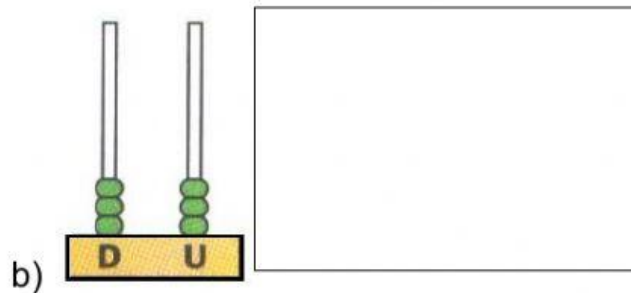
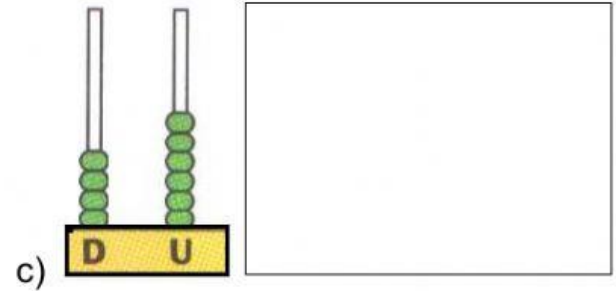
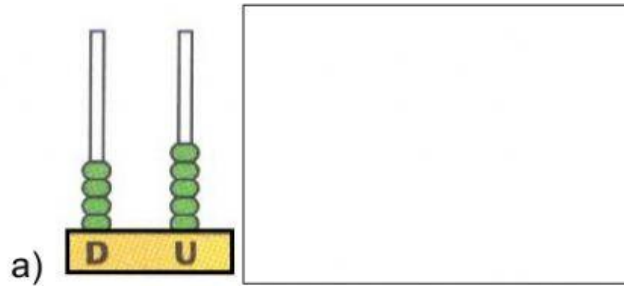


8- A figura geométrica espacial representada no molde abaixo é:



- a) ( ) um paralelepípedo, tem 6 faces, 12 arestas e 18 vértices.
- b) ( ) um paralelepípedo, tem 6 faces, 14 arestas e 10 vértices.
- c) ( ) é um paralelepípedo, tem 16 faces, 12 arestas e 12 vértices.
- d) ( ) é um paralelepípedo, tem 6 faces, 12 arestas e 8 vértices.

9- Observe os ábacos abaixo, arme e efetue para obter o resultado de cada um.



10- Leia as pistas e descubra que número Laura representou no ábaco.

**Pistas**

- Ela colocou três bolinhas no pino das unidades.
- Ela colocou três bolinhas a mais que o pino anterior no pino das dezenas.

- Laura representou no ábaco \_\_\_\_\_.

**BOA PROVA!**

JESUS VIVE !!!

