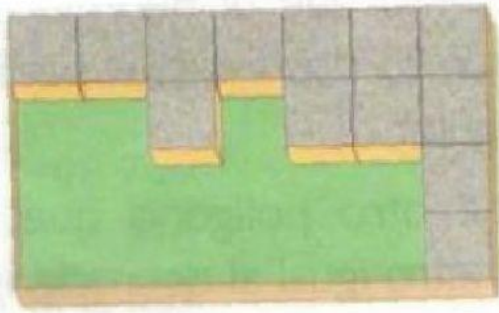


## Noción de Cubo

1. Observa la imagen y responde.

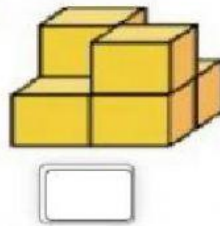
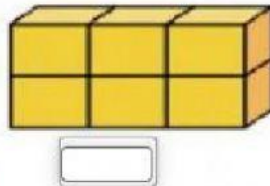
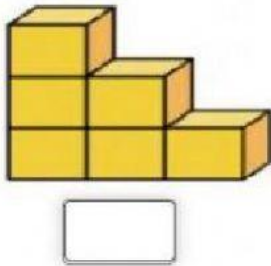


a. ¿Cuántos cubos llenan toda la caja? \_\_\_\_\_

b. ¿Cuántos cubos hay en la caja? \_\_\_\_\_

c. ¿Cuántos cubos faltan por llenar la caja? \_\_\_\_\_

2. Cuenta los cubos que hay en cada cuerpo.



3. Halla el volumen en cada cuerpo.

