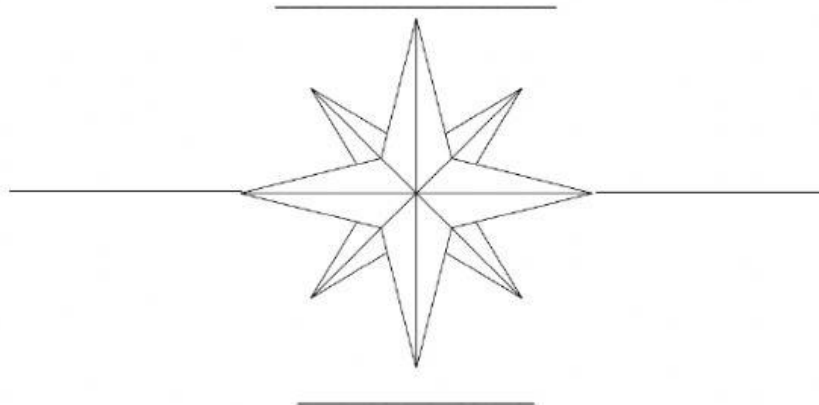


1. Complete en las líneas los nombres de los puntos cardinales según corresponde (4 pts; 1 c/acierto)



Lea y complete con los puntos cardinales los recuadros, con la información correspondiente. (4 pts, 1pto c/acierto)

Juan quiere orientarse con los puntos cardinales. Ayúdalo a ubicarse.



2. Escribe los puntos cardinales a los que debe dirigirse para ir a los diferentes lugares.


a. Si desea ir a la playa se debe dirigir al

b. Si desea ir a su casa debe dirigirse al

c. Si desea ir al pueblo se debe dirigir al

d. Si desea visitar la granja de su abuelo se debe dirigir al

3. Complete los espacios en blanco con los puntos cardinales para llegar a la plaza ¿qué camino recorrió Pedro? (4 pts, 1 pto cada acierto)



2 cuabras al \_\_\_\_\_, 2 cuabras al \_\_\_\_\_, 1 al \_\_\_\_\_ y 1 al \_\_\_\_\_.

4. Complete los espacios según lo que se le solicita. (6 ptos, 1 pto cada acierto)

EL SOL SALE POR EL \_\_\_\_\_ Y SE OCULTA POR EL \_\_\_\_\_.

SON LAS 7 DE LA MAÑANA Y EL SOL ESTÁ SALIENDO.

LA CASA ESTÁ AL \_\_\_\_\_.

LA ESCUELA ESTÁ AL \_\_\_\_\_.

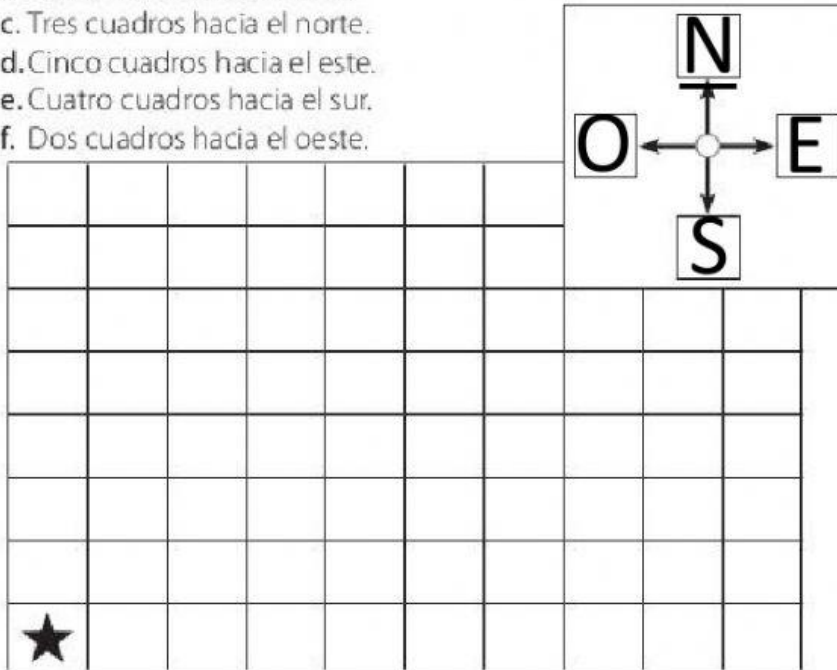
EL SOL ESTÁ AL \_\_\_\_\_.

EI PARQUE ESTÁ AL \_\_\_\_\_.




5. Pon tu lápiz sobre la estrella y avanza por la cuadrícula el número de cuadros que se indica: (6 pts; 1 pto c/acierto)

- a. Dos cuadros hacia el norte.
- b. Tres cuadros hacia el este.
- c. Tres cuadros hacia el norte.
- d. Cinco cuadros hacia el este.
- e. Cuatro cuadros hacia el sur.
- f. Dos cuadros hacia el oeste.



6. Complete los espacios con los puntos cardinales según se le solicita. (6 ptos, 1 pto cada acierto)



El perro está al \_\_\_\_\_ del árbol.

La estrella está al \_\_\_\_\_ del elefante.

La montaña está al \_\_\_\_\_ del niño.

El oso está al \_\_\_\_\_ de la estrella.

La abuelita está al \_\_\_\_\_ del perro.

El pato está al \_\_\_\_\_ de la montaña.