

ASIGNATURA:	Matemáticas
GRADO:	2do año de básica
FECHA:	
ALUMNO:	
DOCENTE:	Lic. Luisana Arroyo.

1.- Ordene los días de la semana.

**Miércoles Sábado Lunes Domingo Martes Jueves
Viernes**

- | | |
|-----------|-----|
| 1.- Lunes | 5.- |
| 2.- | 6.- |
| 3.- | 7.- |
| 4.- | |

2.- Antes y después

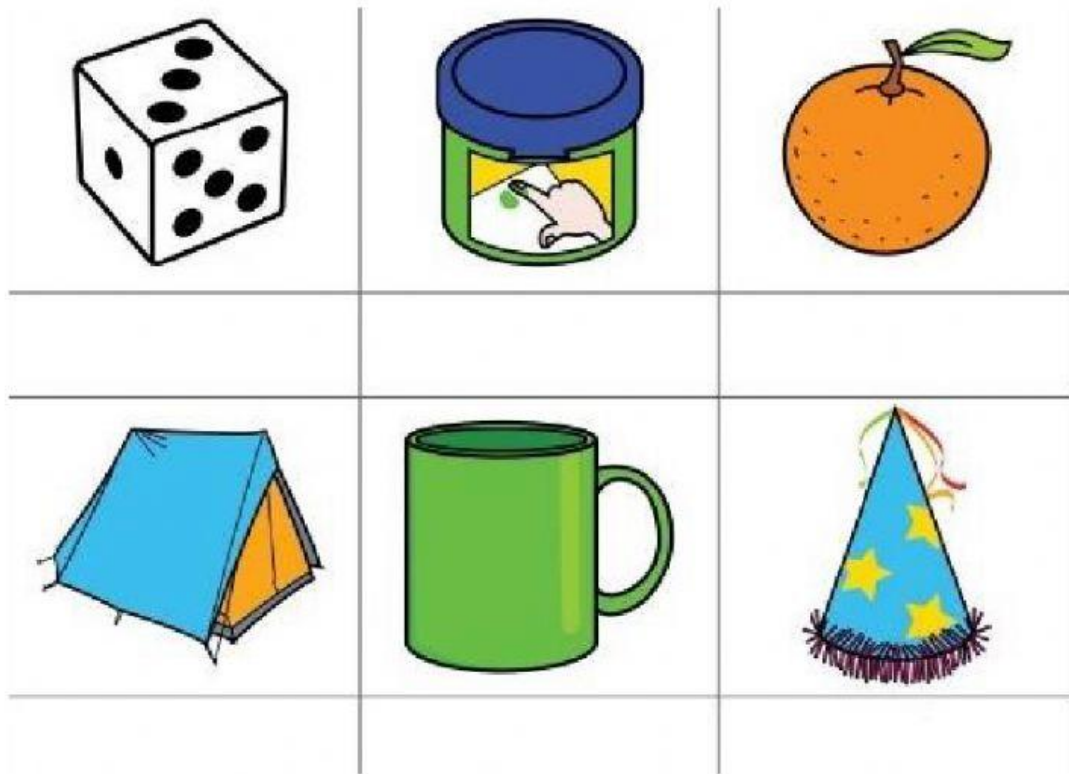
Junio

Febrero

Abril

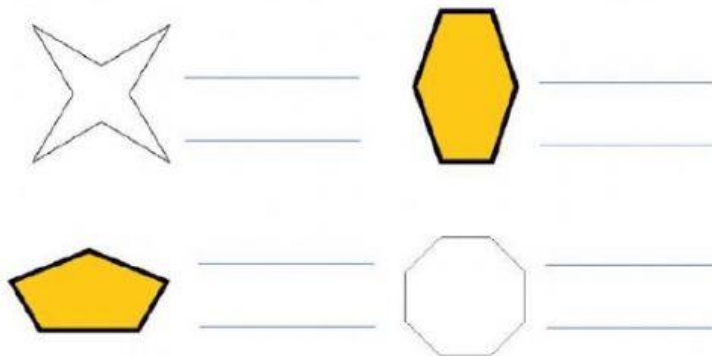
Octubre

3.-Escoja la opción correcta.

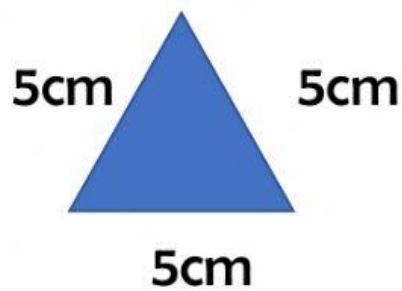


4.- Escoja la opción correcta

Polígonos



5.- Sacar el perímetro



P=

P=

P= cm

6.- Realizar la siguiente suma de tres sumandos.

$$\begin{array}{r} 47 \\ 85 \\ + 21 \\ \hline \end{array} \quad \begin{array}{r} 32 \\ 41 \\ + 78 \\ \hline \end{array}$$

7.- Realizar la siguiente resta.

$$\begin{array}{r} 637 \\ - 183 \\ \hline \end{array} \quad \begin{array}{r} 586 \\ - 119 \\ \hline \end{array}$$

8.- Cuanto dinero hay en cada gráfico.

