




**GIMNASIO BILINGÜE CAMPESTRE MARIE CURIE**  
Resolución de aprobación No. 647 del 28 de Noviembre de 2018 (SEC)  
"Everything humankind has created originates within the mind so, develop your mind and it will make an invaluable contribution"

**SCIENCE FINAL EXAM**  
**FIRST TERM**  
**TRANSITION \_\_\_\_\_**

**Nombre:** \_\_\_\_\_ **Fecha:** \_\_\_\_\_

1. Observa las imágenes y selecciona las que representan seres vivos



Images take from: <https://co.pinterest.com/pin/342625484127028283/>

2. Los seres vivos tienen diferentes necesidades. Selecciona los elementos que la planta necesita para vivir.




3. Los ecosistemas tienen diferentes especies de animales y plantas.

Ubica el nombre de cada ecosistema bajo la imagen correcta:

Océano

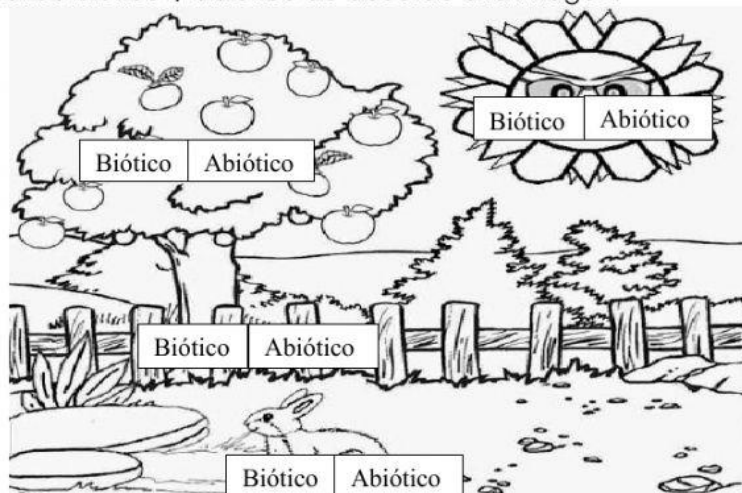
Bosque

Desierto




Images taken from: <https://www.biopedia.com/habitats-para-colorear/>

4. Los ecosistemas están formados por elementos bióticos y abióticos que están en equilibrio. Escribe **biótico** / **abiótico** de acuerdo a la imagen.



Images taken from: <https://co.pinterest.com/pin/435441857721652266/>

5. La contaminación se produce cuando elementos extraños dañan el equilibrio en un ecosistema. Selecciona los ejemplos de un ecosistema contaminado.



References taken from <http://www.imaqui.com/>