


NOME _____ DATA: 16/04/2021

LÍNGUA PORTUGUESA

OBSERVE A IMAGEM ABAIXO. ELA PERTENCE À CAPA DE UM LIVRO. VEJA AS INFORMAÇÕES QUE ELE APRESENTA E RESPONDA AS QUESTÕES ABAIXO.



QUAL O TÍTULO DO LIVRO?

QUAL O NOME DO AUTOR?

QUAL O NOME DO ILUSTRADOR?

QUAL O NOME DA EDITORA?

VOCÊ JÁ OUVIU A EXPRESSÃO POPULAR “UM PASSARINHO ME CONTOU”? SABE O QUE ELA SIGNIFICA? _____

A ILUSTRAÇÃO DA CAPA TEM RELAÇÃO COM O TÍTULO DO LIVRO? POR QUÊ?

MATEMÁTICA

Resolva as operações começando sempre pelas unidades. Veja!



$$\begin{array}{r} \text{DU} \\ 12 \\ + 34 \\ \hline 46 \end{array}$$

$$\begin{array}{r} \text{DU} \\ 21 \\ + 43 \\ \hline \end{array}$$

$$\begin{array}{r} \text{DU} \\ 52 \\ + 13 \\ \hline \end{array}$$

$$\begin{array}{r} \text{DU} \\ 30 \\ + 26 \\ \hline \end{array}$$

$$\begin{array}{r} \text{DU} \\ 41 \\ + 16 \\ \hline \end{array}$$

$$\begin{array}{r} \text{DU} \\ 33 \\ + 22 \\ \hline \end{array}$$

$$\begin{array}{r} \text{DU} \\ 14 \\ + 61 \\ \hline \end{array}$$

$$\begin{array}{r} \text{DU} \\ 51 \\ + 25 \\ \hline \end{array}$$

$$\begin{array}{r} \text{DU} \\ 15 \\ + 52 \\ \hline \end{array}$$

ESCREVA O NOME DOS NUMERAIS:

21 _____

11 _____ 19 _____

25 _____

18 _____

GEOGRAFIA

O QUE VOCÊ COSTUMA OBSERVAR QUANDO PASSA NAS RUAS DO SEU BAIRRO? QUAIS ELEMENTOS DA PAISAGEM EXISTEM PERTO DA CASA DE MARCELO?

☐

RESTAURANTE.

☐

FLORICULTURA.

☐

LIVRARIA.

☐

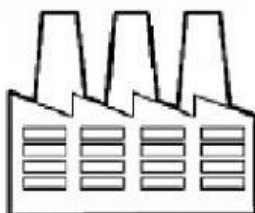
FARMÁCIA.

AÇOUGUE.

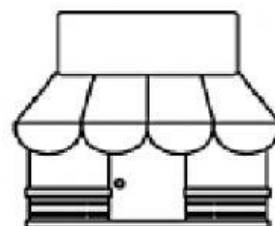
- VEJA OS ELEMENTOS ABAIXO MARQUE AQUELES QUE REPRESENTAM O QUE VOCÊ PODE OBSERVAR NO BAIRRO ONDE VOCÊ VIVE.




RESIDÊNCIA



INDÚSTRIA



LOJA



PRAÇA



ESCOLA



FARMÁCIA