

ALUNO(A) _____

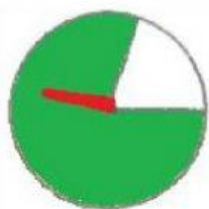
data ____/____/____

/SÉRIE _____º Ano

Probabilidade

Vamos girar o
ponteiro...

a) Sobre



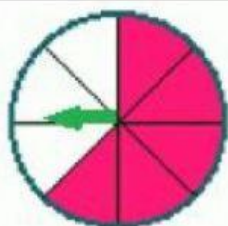
verde

branco

qual cor é **mais** provável que
o ponteiro pare?

b) Quais são as chances de o
ponteiro

parar no espaço branco?



certo

provável

improvável

impossível

Se você escolhesse uma bola de gude sem olhar, quais
as chances de que você tenha escolhido a:


a) cor preta?

certo	provável	improvável	impossível
-------	----------	------------	------------

b) cor verde?

certo	provável	improvável	impossível
-------	----------	------------	------------

certo	provável	improvável	impossível
-------	----------	------------	------------



c) cor azul?



PROFEDINA