







PICTOGRAMAS

1. En el pictograma se muestra la cantidad de objetos comprados para la fiesta de cumpleaños de José.

| Objetos | Cantidad comprada |
|-----------|--|
| carritos |  |
| caramelos |  |
| gorros |  |
| globos |  |
| helados |  |
| matracas |  |


Recuerda que el pictograma es una gráfica que usa dibujos...



Cada  representa 2 objetos



a. Completa los datos en la tabla

| Objetos | Cantidad comprada |
|-----------|---|
| carritos |  |
| caramelos | |
| gorros | |
| globos | |
| helados | |
| matracas | |

b. Según los datos, responde lo siguiente.

- ¿Cuántos gorros compraron?

Compraron gorros.

- ¿De qué objeto se compró menor cantidad?

- ¿Qué objetos se compraron en mayor cantidad?

- ¿Cuántas matracas y carritos se compraron?

matracas y carritos.

- Si asisten 17 niños a la fiesta de José, ¿alcanzará el número de gorros para todos? ¿Por qué?
