



Ministero dell'Istruzione
dell'Università e della Ricerca



Istituto nazionale per la valutazione
del sistema educativo di istruzione e di formazione

Rilevazione degli apprendimenti

Anno Scolastico 2012 – 2013

PROVA DI MATEMATICA

Scuola primaria

Classe Seconda

Fascicolo 1



Spazio per l'etichetta autoadesiva

ISTRUZIONI

Troverai nel fascicolo 21 domande di matematica.

La maggior parte delle domande ha tre possibili risposte, ma una sola è quella giusta. Prima di ogni risposta c'è una lettera dell'alfabeto: A, B, C.

Per rispondere, devi mettere una crocetta nel quadratino accanto alla risposta (una sola) che ritieni giusta, come nell'esempio seguente:

Esempio 1

Quanti giorni ci sono in una settimana?

- ☒ A. Sette
- ☐ B. Sei
- ☐ C. Cinque

È stata messa una crocetta nel quadratino corrispondente alla lettera 'A' perché in una settimana ci sono sette giorni.

Se ti accorgi di aver sbagliato, puoi correggere scrivendo **NO** accanto alla risposta sbagliata e mettendo una crocetta nel quadratino della risposta che ritieni giusta, come nell'esempio seguente:

Esempio 2

Quanti minuti ci sono in un'ora?

- NO** ☒ A. 30
- ☐ B. 50
- ☒ C. 60

In questo esempio la prima risposta 'A' (sbagliata) è stata corretta con la risposta 'C' (che è quella giusta).

Ricordati che puoi disegnare o scrivere sulle figure e puoi usare gli spazi bianchi del fascicolo per fare calcoli, se ti serve.


Per fare una prova, ora rispondi a questa domanda.

Quante sono le stagioni in un anno?

- ☐ A. 3
- ☐ B. 4
- ☐ C. 5

Per svolgere l'intera prova avrai in tutto 45 minuti di tempo.

NON GIRARE LA PAGINA FINCHÉ NON TI SARÀ DETTO DI FARLO!

D1. Conta le stelle.

Quante sono in tutto le stelle?

Risposta:

M1302D0200

D2. Completa la tabella scrivendo il precedente e il successivo dei numeri che sono già scritti.

precedente	numero	successivo
.....	45
.....	100
.....	59

- D3. CHIARA ha il suo nome stampato sulla maglietta.
Si guarda allo specchio e lo vede scritto così:**

ARAIHC

**Anche PIERO ha il suo nome stampato sulla maglietta.
Come sarà il suo nome visto allo specchio?**

OREIP PIERO OREIP

- A. ☐ B. ☐ C. ☐

- D4. Giorgia guarda il suo album di figurine. In ogni pagina c'è posto per 10 figurine.**

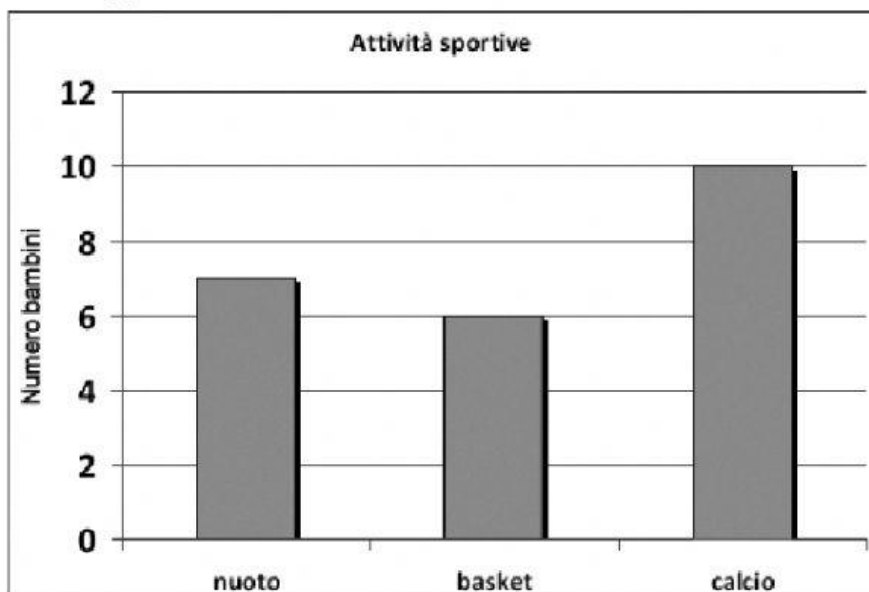
Giorgia è riuscita a completare 4 pagine e ha incollato altre 15 figurine nelle altre pagine.

Quante figurine ha incollato Giorgia in tutto?

- A. ☐ 25
B. ☐ 29
C. ☐ 55

D5. Tutti i bambini della classe 2B hanno scelto lo sport da praticare a scuola.

Il grafico rappresenta le loro scelte.



a. Quale sport è praticato solo da 6 bambini?

Risposta:

b. Quanti bambini praticano il nuoto?

Risposta: bambini

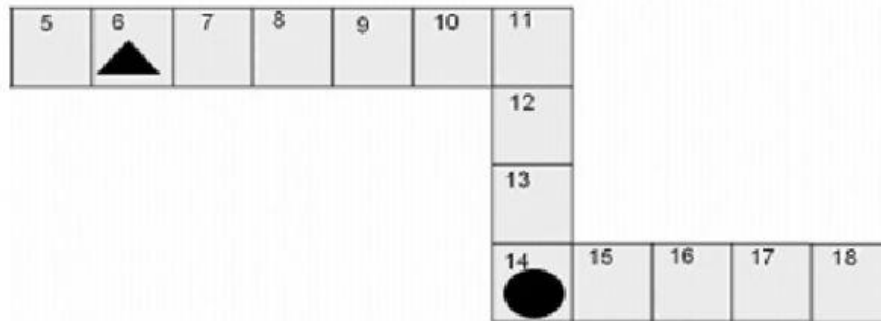
c. Quanti sono i bambini della 2B?


A. ☐ 10

B. ☐ 22

C. ☐ 23

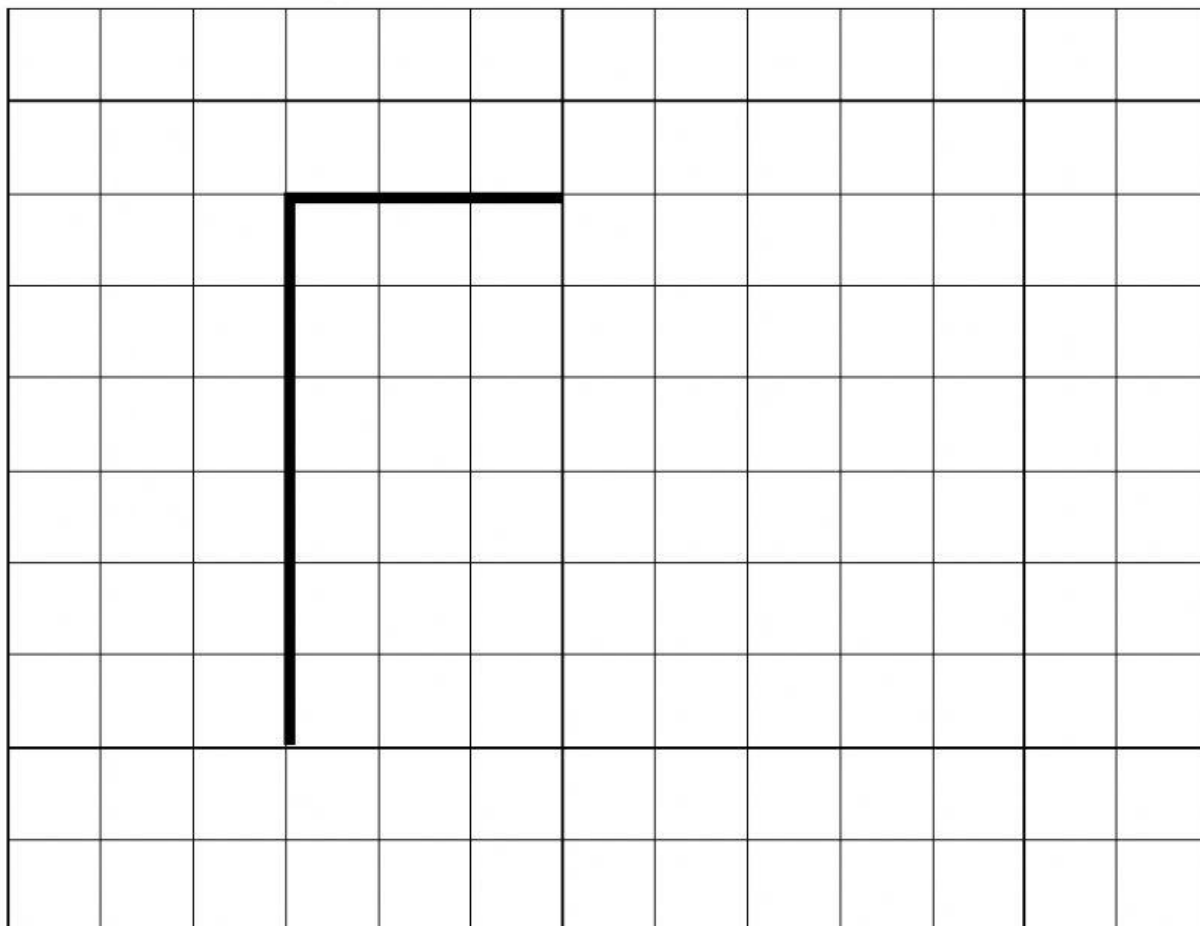
- D6. Alì, Bruno e Carla fanno una partita al gioco dell'oca.
Ogni giocatore lancia un dado e muove la sua pedina.**



- a. Alì ha la pedina ▲. Lancia il dado e fa 6.
Su quale casella metterà la sua pedina Alì?
- A. ☐ Sulla casella 11
- B. ☐ Sulla casella 12
- C. ☐ Sulla casella 13
- b. Carla è partita dalla casella 6 ed è arrivata alla 10.
Che numero ha fatto col dado?
- A. ☐ 6
- B. ☐ 5
- C. ☐ 4
- c. Bruno ha la pedina ●. Ha tirato il dado, ha fatto  ed è arrivato sulla casella che vedi in figura.
Su quale casella era la pedina di Bruno prima di lanciare il dado?

Risposta:


D7. Osserva il disegno.



Completa il disegno in modo che la figura che ottieni sia un QUADRATO.

D8. Francesca vuole sapere quanto è alta.

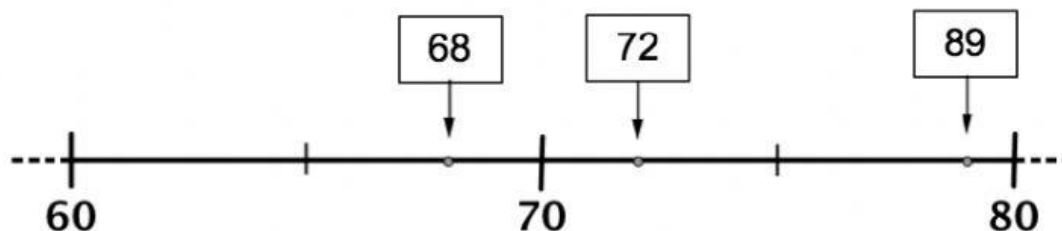
Nella sua classe c'è un metro che misura da 0 a 150 centimetri posizionato nel modo che vedi in figura. Francesca misura la sua altezza.



Quanto è alta Francesca?

Risposta: Francesca è alta centimetri

D9. Osserva questa linea dei numeri.



Uno dei numeri nei riquadri è nella posizione sbagliata. Quale?

- A. ☐ 68
- B. ☐ 72
- C. ☐ 89