

8-HOZ ADUNK

Az asztalon 8 kanál volt.
Hozzá tettünk 5 villát.
Hány evőeszköz van összesen?

$$8 + 5 = 13$$

$$8 + 2 + 3 = 10 + 3 = 13$$

$$\bullet = 13$$



Az asztalon 13 evőeszköz van.



1 Rakd ki korongokkal! Írj róla összeadást!



$$8 + 3 = \square$$

$$8 + 2 + 1 = 10 + \square = \square$$



$$8 + 5 = \square$$

$$8 + \square + \square = \square + \square = \square$$



$$8 + \square = \square$$

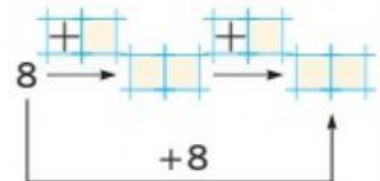
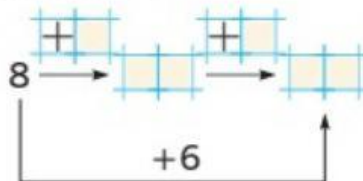
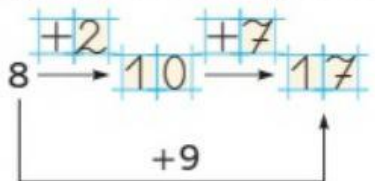
$$8 + \square + \square = \square + \square = \square$$



$$8 + \square = \square$$

$$8 + \square + \square = \square + \square = \square$$

2 Egészítsd ki a megfelelő számokkal!



3 Végezd el az összeadásokat!

$$8 + 4 = \square$$

$$9 + 2 = \square$$

$$8 + 9 = \square$$

$$9 + 7 = \square$$

$$8 + 5 = \square$$

$$9 + 8 = \square$$

$$8 + 3 = \square$$

$$9 + 3 = \square$$

$$8 + 8 = \square$$

$$8 + 6 = \square$$

$$8 + 7 = \square$$

$$9 + 9 = \square$$