

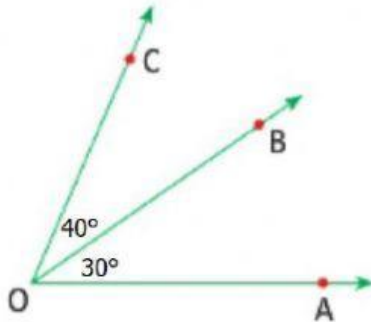


EXAMEN MENSUAL DE ÁLGEBRA
INSTITUCIÓN EDUCATIVA PRIVADA
"SEMILLITAS DE VIDA"



PROFESORA: AILY MELISSA GUTARRA BONIFAZ

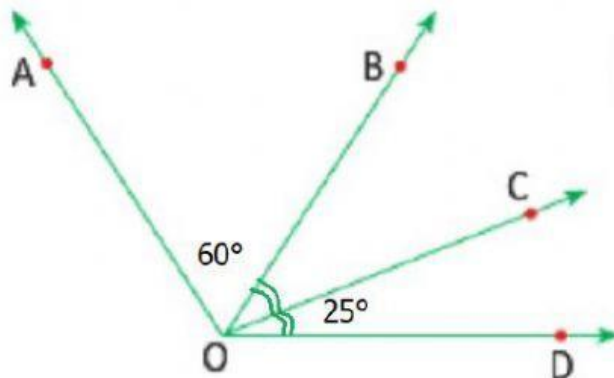
1. HALLA LA MEDIDA DEL ANGULO AOC:



RESPUESTA:

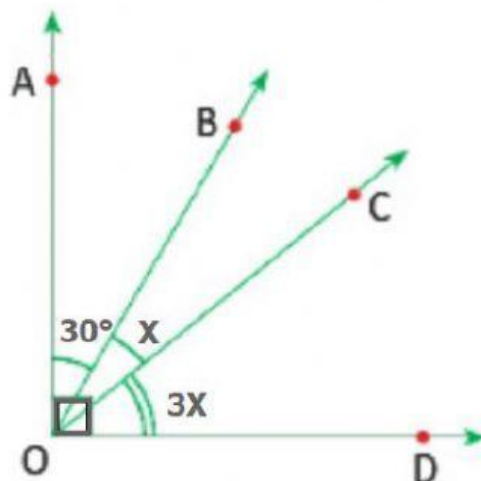
2. HALLA LA MEDIDA DEL ÁNGULO AOD SI:

$$m\angle BOC = m\angle COD$$



RESPUESTA:

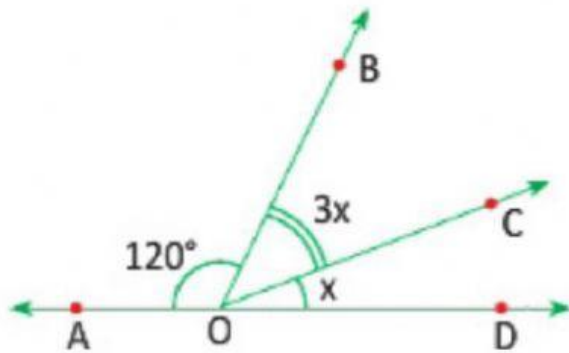
3. ENCUENTRA EL VALOR DE "X"



RESPUESTA:

POFESORA: AILY MELISSA GUTARRA BONIFAZ

4. ENCUENTRA EL VALOR DE "X"



RESPUESTA:

5. HALLA EL COMPLEMENTO DEL SUPLEMENTO DE 140°

RESPUESTA:

6. HALLA EL SUPLEMENTO DEL COMPLEMENTO DE 40°

RESPUESTA: