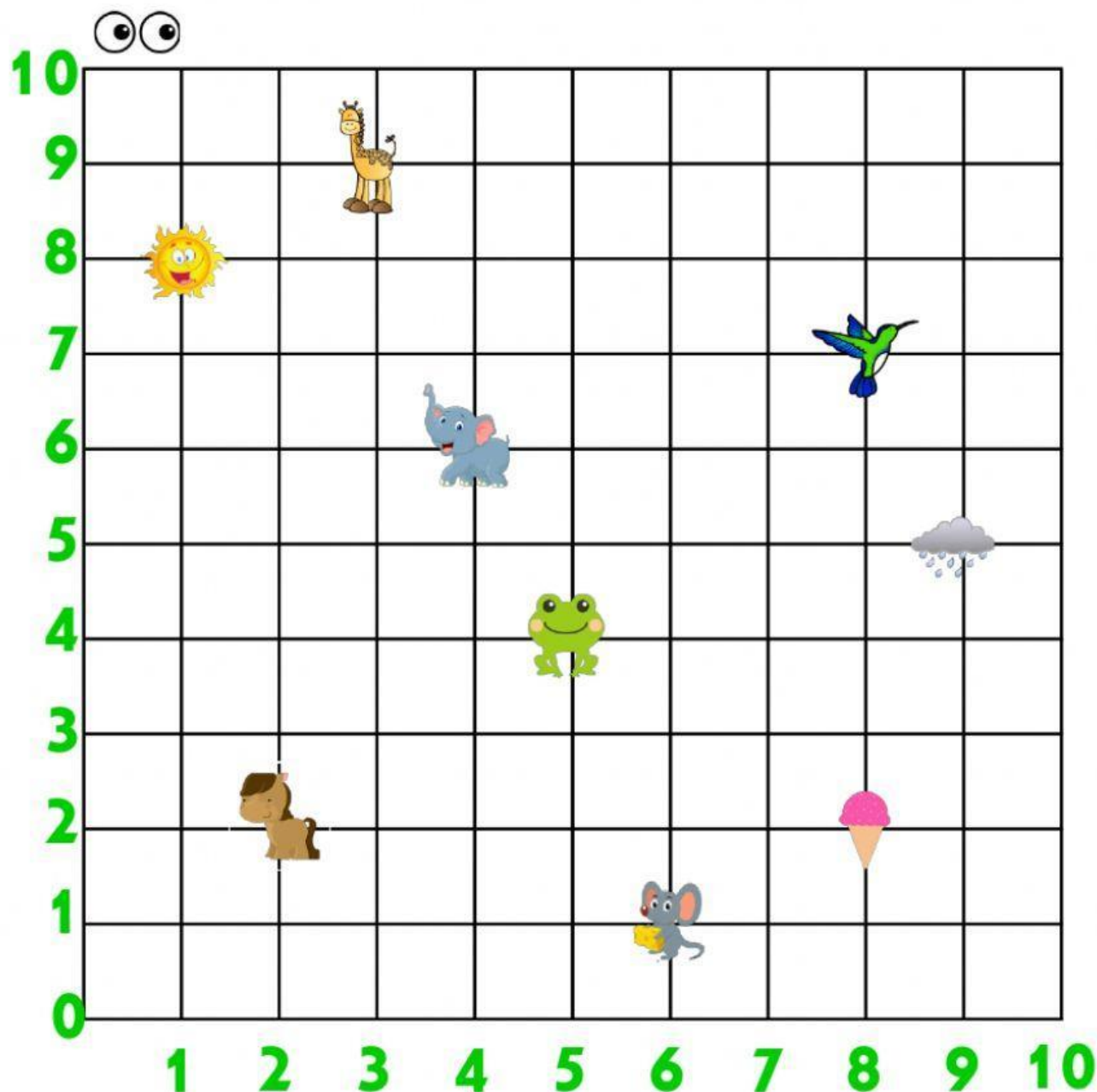


Plano Cartesiano

Actividad 1: mira el plano cartesiano y arrastra las coordenadas correspondientes a cada una de las figuras.



(5,4)

(6,1)

(8,7)

(9,5)

(2,2)

(1,8)

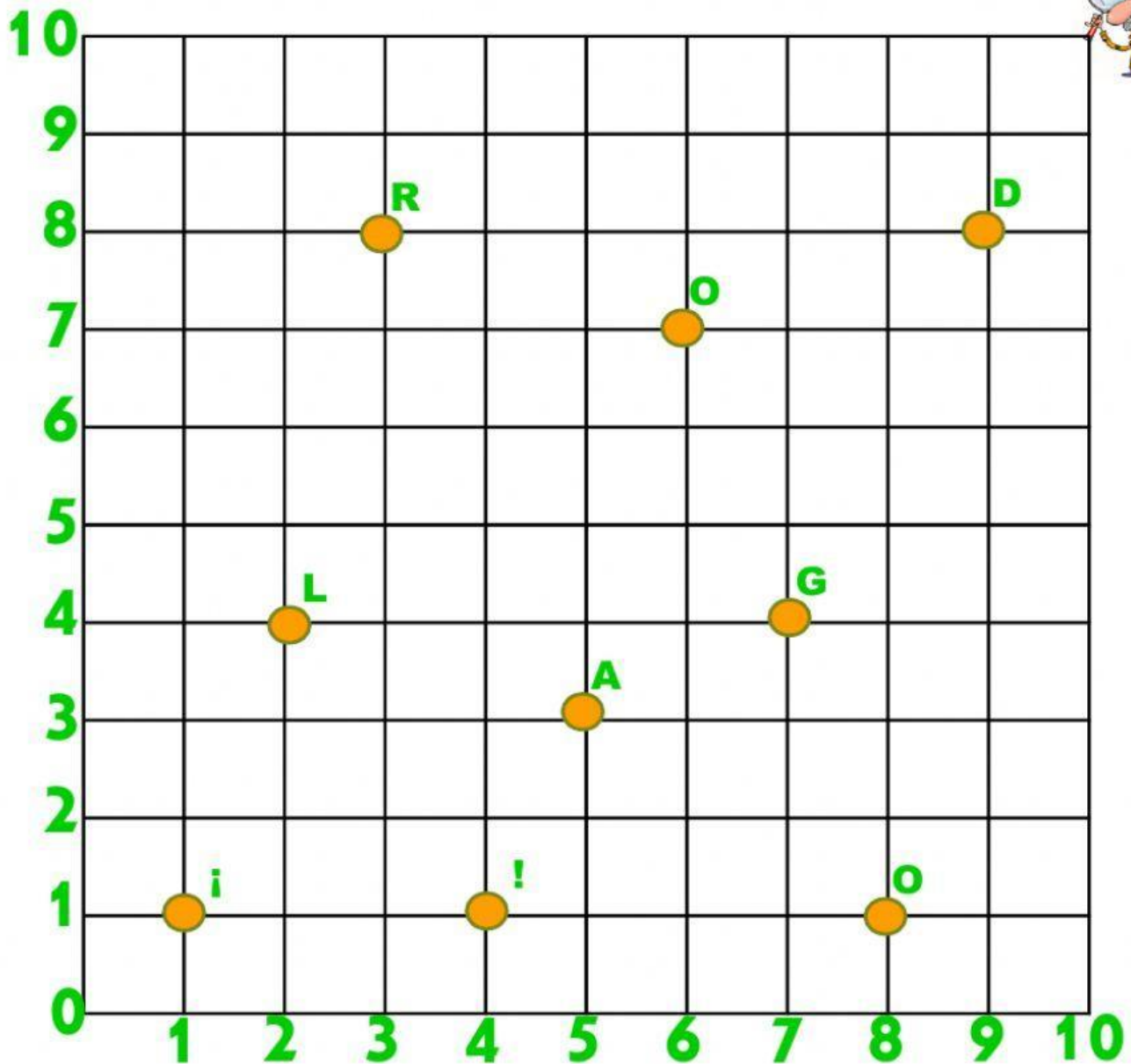
(3,9)

(4,6)

(8,2)

Miss Pachy

Actividad 2: descubre la palabra oculta en este plano cartesiano. Sólo tienes que escribir sobre cada par de coordenadas, la letra correspondiente.

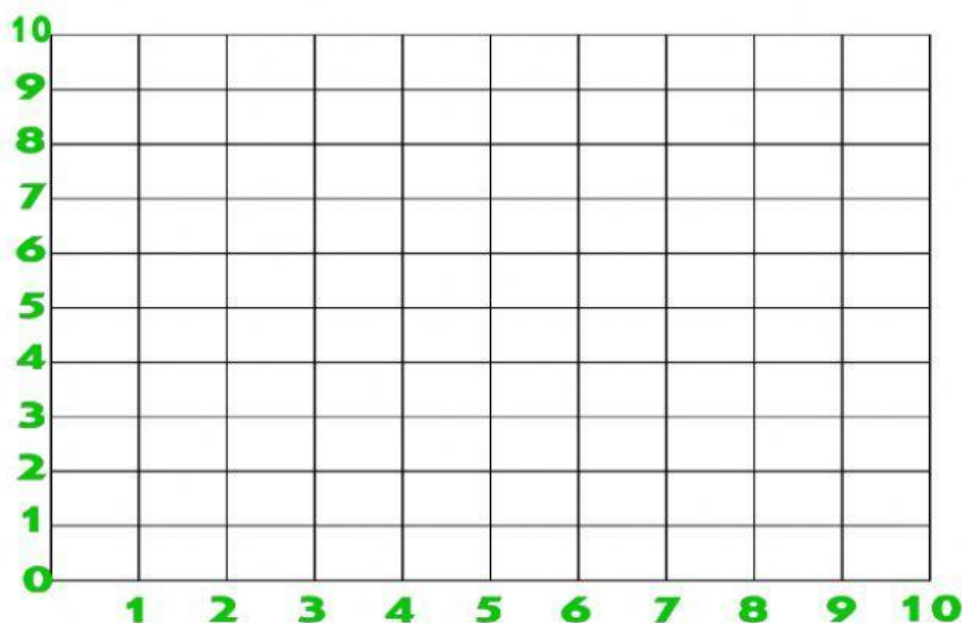


<input type="text"/>	<input type="text"/>	<input type="text"/>	<input type="text"/>	<input type="text"/>	<input type="text"/>	<input type="text"/>	<input type="text"/>	<input type="text"/>
(1,1)	(2,4)	(6,7)	(7,4)	(3,8)	(5,3)	(9,8)	(8,1)	(4,1)

R:

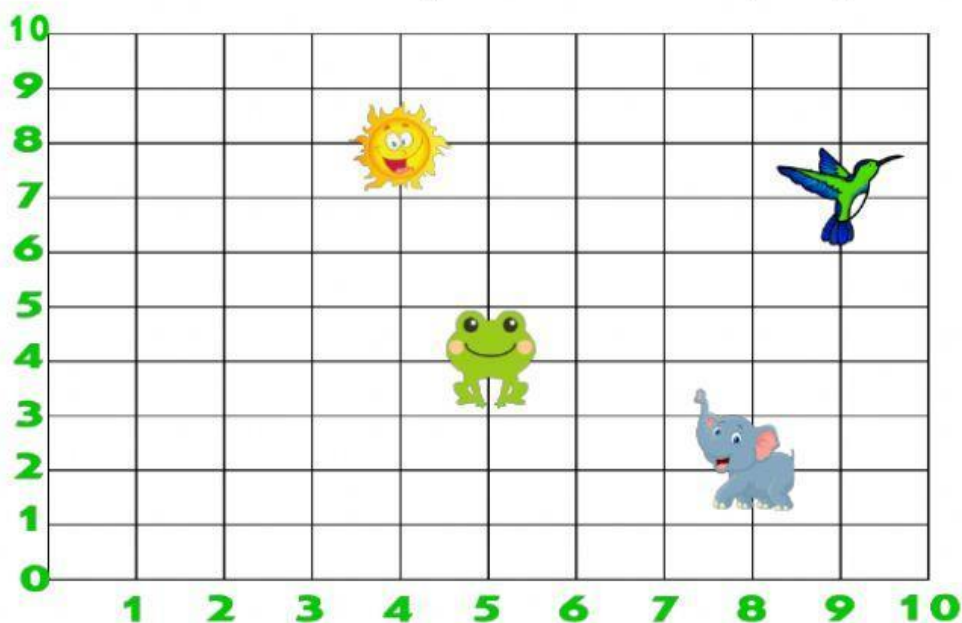
Miss Pachy

Actividad 3: Descubre la imagen oculta en este plano cartesiano. Sólo tienes que arrastrar cada círculo a la coordenada correspondiente.



- | | |
|---------|---------|
| ● (9,0) | ● (2,9) |
| ● (4,8) | ● (8,1) |
| ● (5,7) | ● (7,2) |
| ● (1,5) | ● (5,3) |
| ● (6,2) | ● (3,4) |
| ● (5,5) | |

Actividad 4: mira el plano cartesiano y responde las preguntas.



¿Cuál es la coordenada del elefante?

¿Cuál es la coordenada de la rana?

¿Cuál es la coordenada del pájaro?

¿Cuál es la coordenada del sol?

Miss Pachy