

EVALUASI TEMATIK MATEMATIKA


TEMA 7 SUBTEMA 3

Nama :

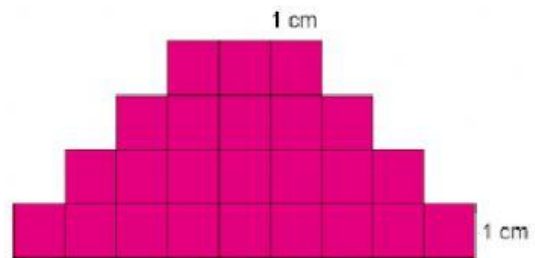
Kelas :

Kerjakan soal-soal di bawah ini dengan benar dan teliti!

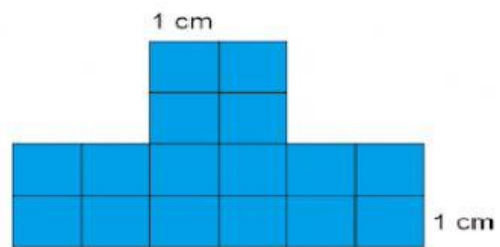
1. Keliling bangun datar berikut adalah
persegi satuan
a. 20
b. 21
c. 22



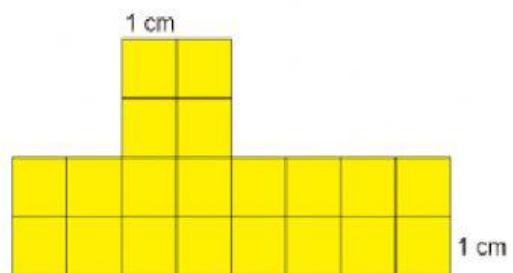
2. Jika panjang sisi 1 persegi satuan = 1 cm, maka keliling bangun datar di samping adalah cm
a. 24
b. 25
c. 26




3. Keliling bangun datar berikut adalah
a. 15 cm
b. 20 cm
c. 25 cm



4. Bangun datar di samping memiliki keliling sebesar cm
a. 22
b. 24
c. 26

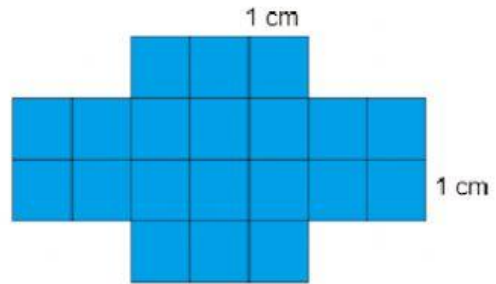


5. Keliling bangun di samping adalah
a. 24 cm
b. 26 cm
c. 28 cm



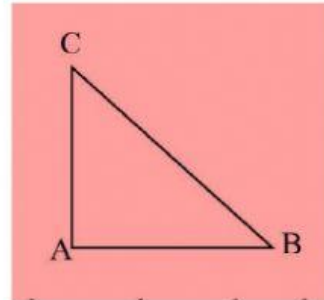
6. Besar keliling bangun datar di samping adalah cm

a. 22
b. 21
c. 20



7. Keliling segitiga siku-siku berikut adalah

a. $A + B + C$
b. $AC + AB$
c. $AC + AB + BC$



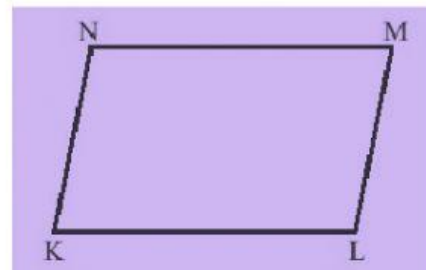
8. Keliling persegi panjang berikut adalah ...

a. $A + B + C + D$
b. $AB + CD + BD + AC$
c. $AB + BC + CD + DA$



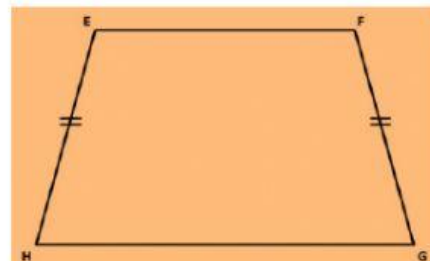
9. Keliling bangun jajargenjang berikut adalah

a. $K + L + M + N$
b. $KL + LM + MN + NK$
c. $KL + KM + LN + NK$



10. Keliling bangun trapesium berikut adalah

a. $EF + FG + GH + HE$
b. $EH + FG + EG + FH$
c. $EF + GH$



SELAMAT MENGERJAKAN ANAK-ANAK 😊😊😊