



CLASIFICACIÓN DE LOS POLÍGONOS

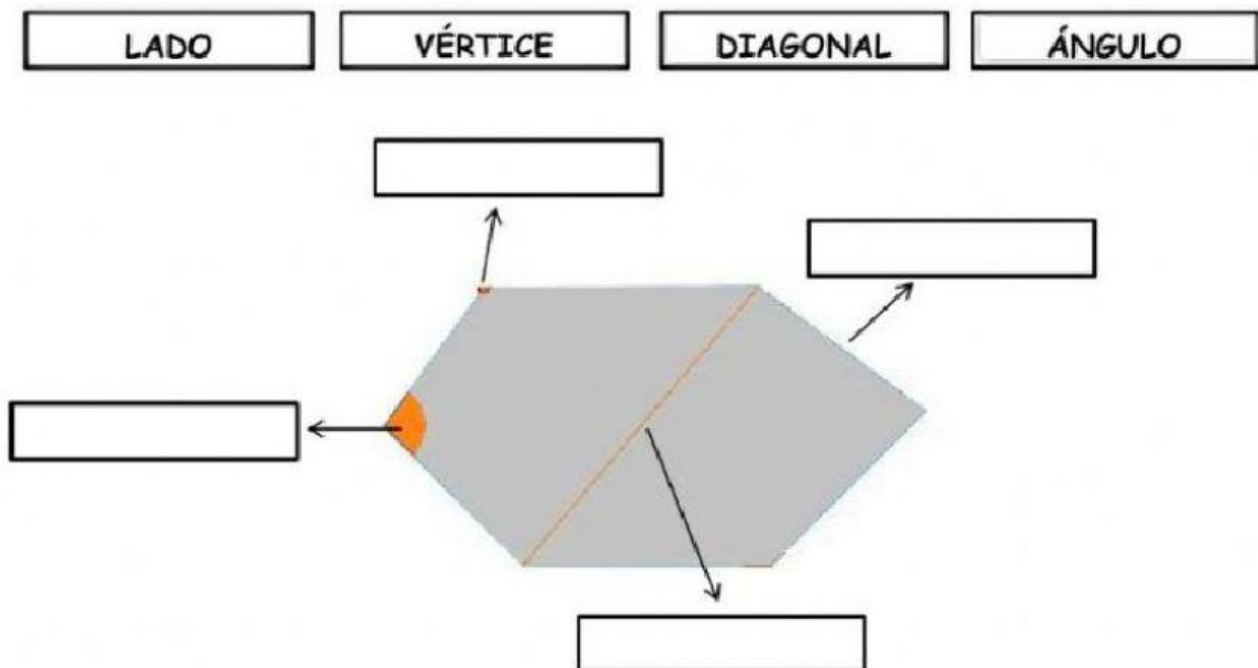
SEGÚN SUS LADOS:



SEGÚN SUS LADOS Y ÁNGULOS:

REGULARES	IRREGULARES
<ul style="list-style-type: none">Lados y ángulos iguales 	<ul style="list-style-type: none">Lados y ángulos desiguales 









1. Coloca correctamente los nombres:











2. Une con flechas:

CONCEPTO	DEFINICIÓN
Lado	Segmentos que unen dos vértices no consecutivos.
Vértice	Puntos donde se unen los lados.
Ángulo	Ángulos que forman los lados.
Diagonal	Segmentos que forman la línea poligonal.

3. ¿Cómo se llama cada polígono según sus lados?

			
<input type="text"/>	<input type="text"/>	<input type="text"/>	<input type="text"/>
			
<input type="text"/>	<input type="text"/>	<input type="text"/>	<input type="text"/>

4. Di si los siguientes polígonos son regulares o irregulares.

			
<input type="text"/>	<input type="text"/>	<input type="text"/>	<input type="text"/>
			
<input type="text"/>	<input type="text"/>	<input type="text"/>	<input type="text"/>