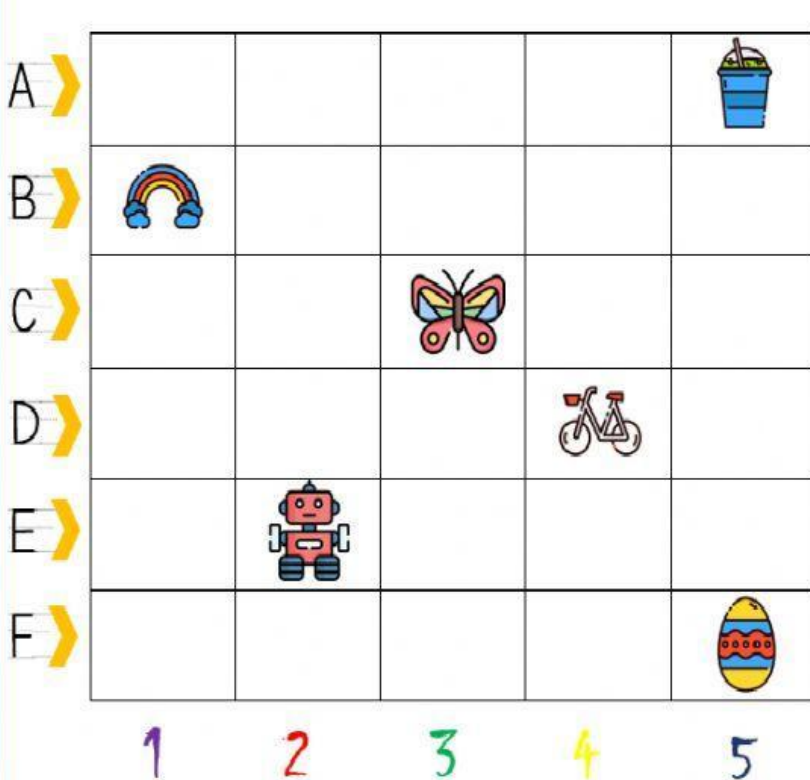


1. Observa el plano y escribe lo que se te pide



 Coordenadas de:


1.  = (:)

2.  = (:)


3.  = (:)


4.  = (:)


5.  = (:)


6.  = (:)


2. Arrastra los objetos al lugar correcto según las coordenadas.


 = (K, 2)

 = (M, 4)

 = (P, 7)

 = (Q, 2)

 = (K, 4)

 = (K, 7)

 = (M, 6)

 = (O, 3)

