



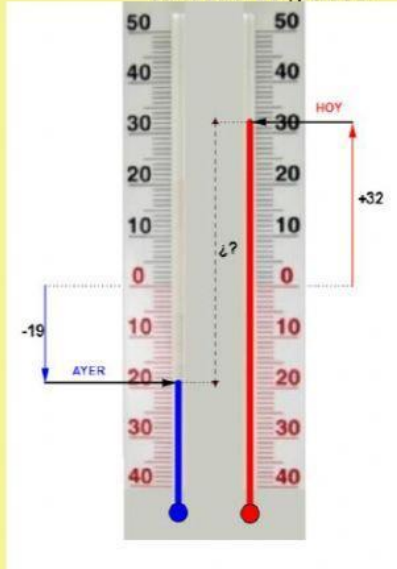
UPSALA  
COLLEGE

**Materia:** Matemática

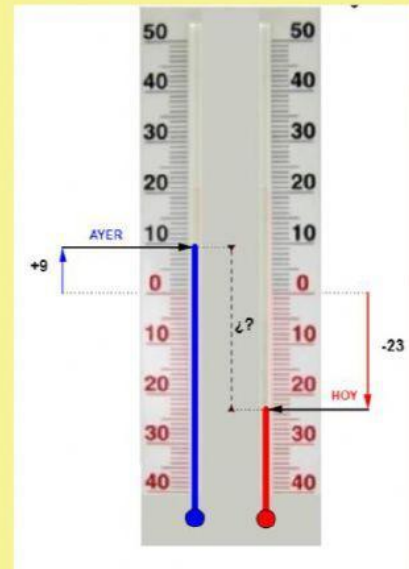
**Docente:** Lucila Fernández Salcedo

Temperaturas por encima y por debajo de cero

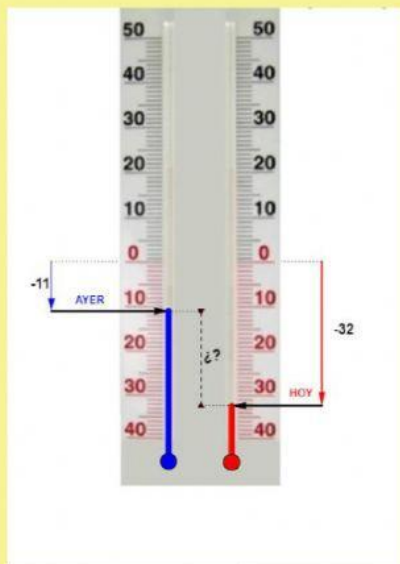
1. Observar los siguientes termómetros. Clickear en la opción correcta y completar la cantidad de grados:



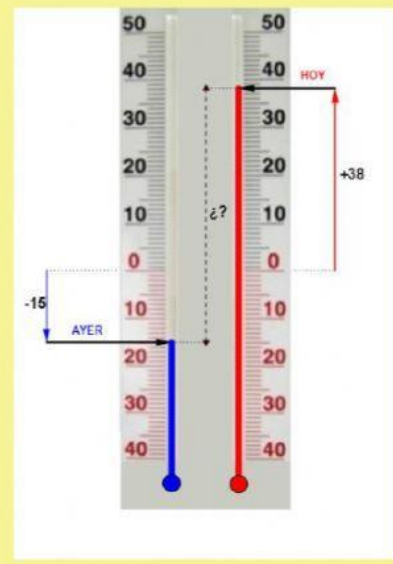
La temperatura de ayer a hoy SUBIÓ BAJÓ grados.



La temperatura de ayer a hoy SUBIÓ BAJÓ grados.



La temperatura de ayer a hoy SUBIÓ BAJÓ grados.



La temperatura de ayer a hoy SUBIÓ BAJÓ grados.