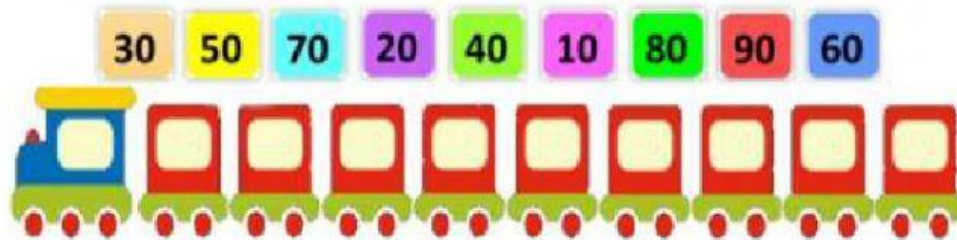
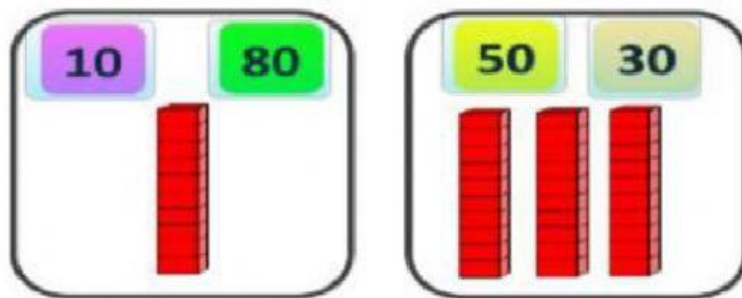
		<b>UNIDAD EDUCATIVA LICEO EMPRESARIAL</b>		<b>Año Lectivo</b> 2020-2021
<b>TERCERA UNIDAD</b>				
<b>Nombre del Alumno:</b>				
<b>Área y Asignatura:</b>		<b>Nombre del Docente:</b>		<b>EGB</b>
Relaciones lógico-matemáticas		Lcda. Alexandra Chulca		Preparatoria
<b>Frase Motivadora:</b>		"Libre para empezar, eso que hay empezar, libre para lograrlo o sólo dejarlo en un lindo plan" <b>Leonel García</b>		
		<b>Calificación</b>		

1. Completa la siguiente secuencia numérica



2.- Cuenta y COLOCA LA RESPUESTA CORRECTO



2. SUMA CORRECTAMENTE

	D	U
	3	6
+	1	3

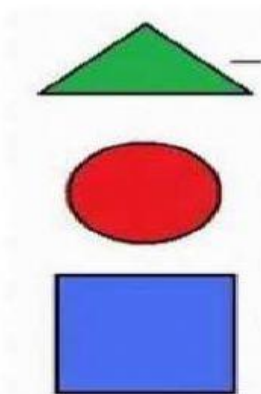
4. Mira y selecciona quien está debajo del árbol



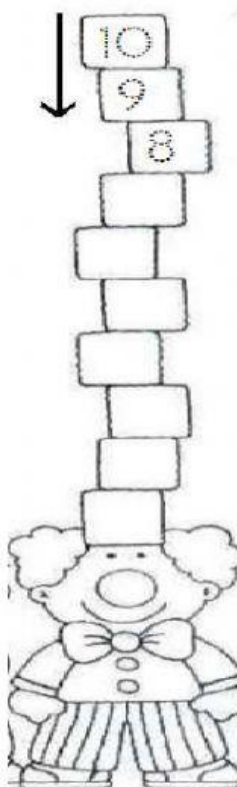
5- selecciona la niña que está cerca de la casa



6.- Escucha y une correctamente



7 COMPLETA LA SIGUIENTE SERIE DESCENDENTE



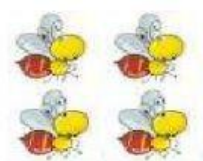
8. Realiza las siguientes restas

	D	U
	3	6
-	1	2

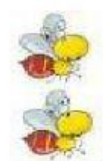
9. coloca el signo mayor menor igual según corresponda



\_\_\_\_\_



\_\_\_\_\_



\_\_\_\_\_



10.-Completa el número que falta y arma la secuencia

<b>0</b>	<b>1</b>			
	<b>6</b>			
		<b>12</b>		
			<b>18</b>	
	<b>21</b>			
<b>30</b>				

				<b>39</b>
		<b>42</b>		
<b>50</b>				<b>54</b>