

Le Canada

Trois (3)

dix (10)

sept (7)

Le Canada a _____ provinces et _____ territoires. On peut aussi diviser le Canada en grandes régions physiologiques. Nous en avons _____.



- | | | | |
|-------------------------|-------------------|--------------|-------------------|
| 1. | 5. | 9. | 13. |
| 2. | 6. | 10. | |
| 3. | 7. | 11. | |
| 4. | 8. | 12. | |
| Terre-Neuve et Labrador | Québec | Saskatchewan | Territoire du N-O |
| Nouvelle-Écosse | I-P-É | Manitoba | Yukon |
| Colombie-Britannique | Nunavut | Alberta | |
| Ontario | Nouveau-Brunswick | | |

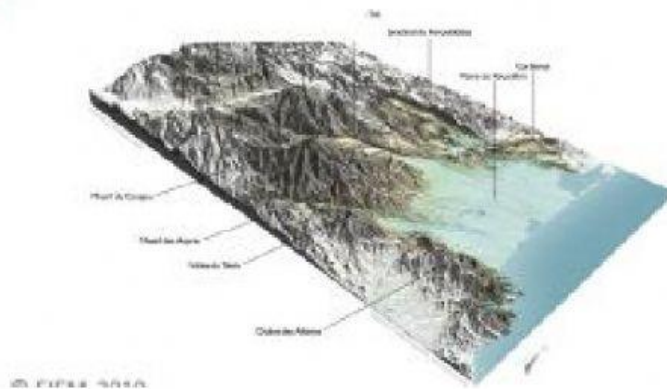
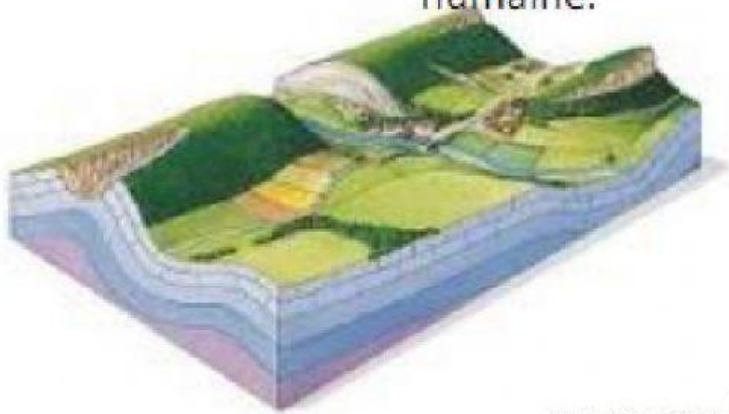
Le relief

Le relief est les formes du paysage qu'on observe à la surface de la Terre.











Le paysage a des aspects et des altitudes qui changent.

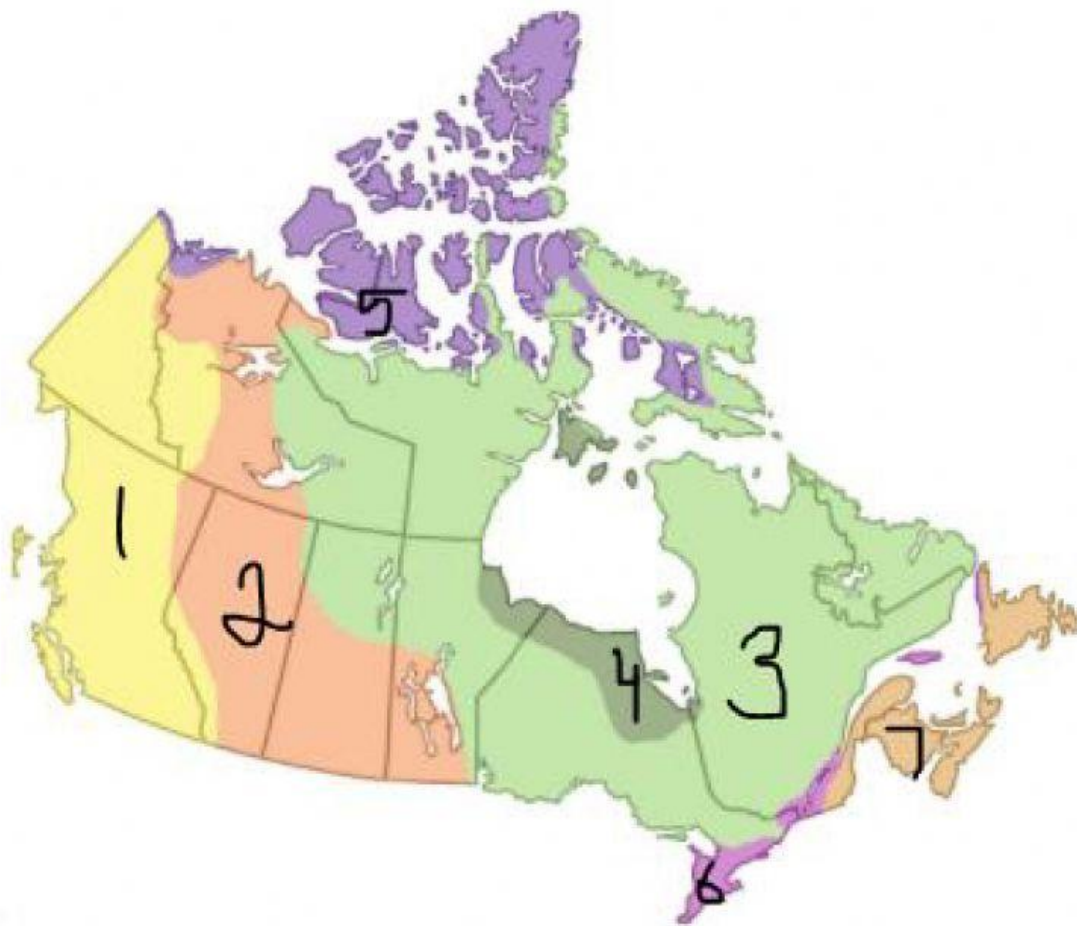
Dans le relief, on différencie les plaines, les plateaux, les vallées, les montagnes, etc.

Chaque relief a une origine particulière, des caractéristiques spécifiques et un effet sur l'activité humaine.



Sur la prochaine page relie le type de relief avec son image

	montagne	
	plateau	
	badlands	
	vallée	
	colline	
	prairie	
	bouclier	
	toundra	
	zones humides	



Identifie les 7 régions physiographiques du Canada

- | | |
|---|--|
| 1 | Appalaches |
| 2 | Cordillère de l'ouest |
| 3 | Les basses terres du St-Laurent et des grands Lacs |
| 4 | Les plaines intérieures |
| 5 | Le Bouclier canadien |
| 6 | Les Basse-Terre de l'Hudson et de l'Arctique |
| 7 | Les montagnes inuitiennes |