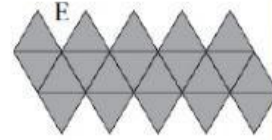
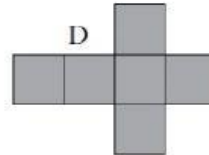
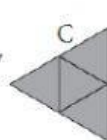
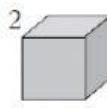




## POLIEDROS

Escribe el nombre los siguientes poliedros regulares y relaciónalos con su desarrollo plano:



1 → .....

2 → .....

3 → .....

4 → .....

5 → .....

**Une:**

El desarrollo del cubo.

El desarrollo del prisma triangular.

El desarrollo de la pirámide pentagonal.

El desarrollo de la pirámide triangular.

