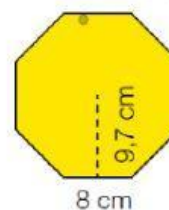
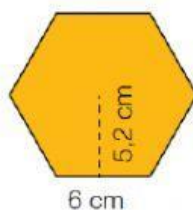




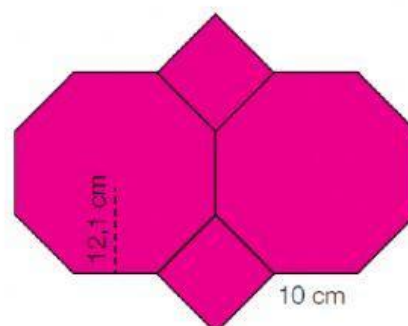
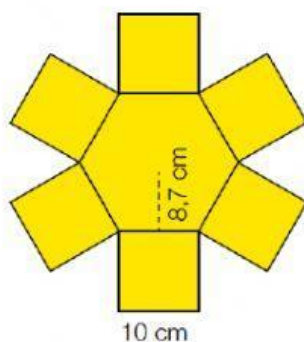
## ÁREA POLÍGONOS REGULARES

## POLÍGONOS

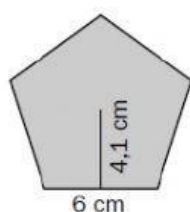
Observa las medidas y calcula el área de cada polígono regular.



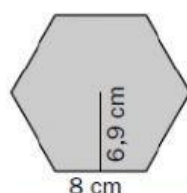
Calcula el área de cada figura formada por polígonos regulares.



Calcula el perímetro y el área de cada uno de estos polígonos regulares.



- $P =$  \_\_\_\_\_ cm
- $ap =$  \_\_\_\_\_ cm
- Área = \_\_\_\_\_  $\text{cm}^2$



- $P =$  \_\_\_\_\_ cm
- $ap =$  \_\_\_\_\_ cm
- Área = \_\_\_\_\_  $\text{cm}^2$