

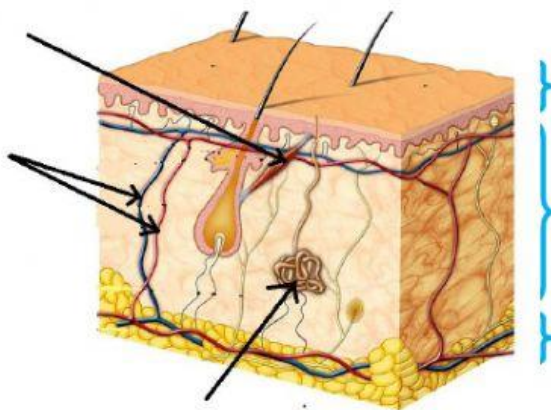
TEST Kožní a vylučovací soustava

1 Jmenuj aspoň tři odpadní látky lidského těla: (3)

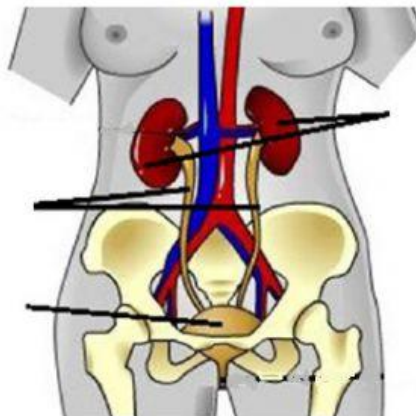
Funkce kožní soustavy: (2)

2 V obrázku pojmenuj 3 vrstvy kůže. (3)

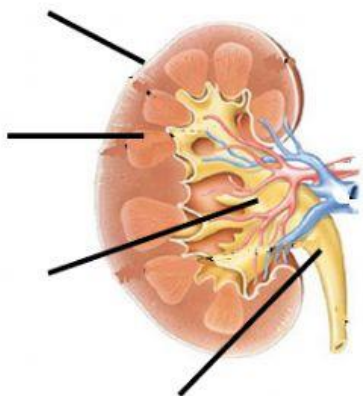
Pojmenuj vyznačené orgány a napiš, k čemu slouží. (3+3)



3 V obrázku vylučovací soustavy pojmenuj vyznačené orgány a napiš, k čemu slouží (3+3).



4 Popiš části ledviny. (4)



5 Základní stavební jednotkou ledvin je

Primární moč se tvoří v jeho části zvané
a vznikne jí asi _____ za den. (3)

Definitivní moč se tvoří v jeho části zvané

a vznikne jí asi _____ za den. (3)

6

Jmenuj alespoň 2 typy žláz v kůži. (2)

Jmenuj alespoň 2 typy kožních derivátů. (2)

7 Doplně, které problémy můžeme očekávat, budeme-li (3)

sedět na chladném podkladu

často se opalovat

málo pít

8 Jak se má chovat člověk, kterého trápí (3)

ekzém

bradavice

popálenina

9 Vylušti, vysvětli. (4)

NAMILEN

ADAZÝLI