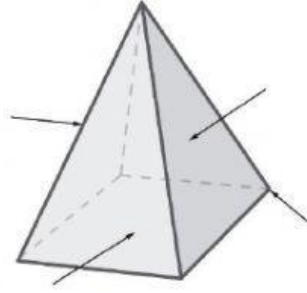
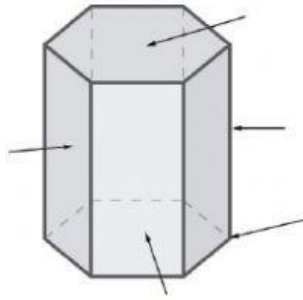
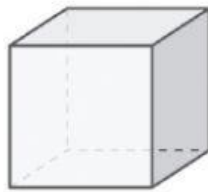
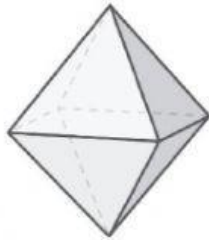
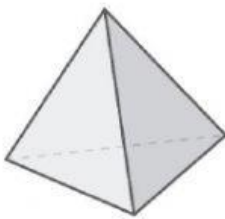


Poliedros

1. Indica el nombre de los elementos de estos cuerpos geométricos.



2. Escribe debajo de cada ilustración el nombre del poliedro correspondiente.



3. Completa estas oraciones.

Una urna tiene forma de

Un ladrillo tiene forma de

Un dado de ocho caras tiene forma de

Un dado de cuatro caras tiene forma de

4. Completa esta tabla.

Poliedro regular	Cubo		Octaedro		
Polígono de sus caras				Pentágono	Triángulo equilátero
Número de caras		4			