
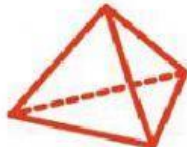






# CUERPOS GEOMÉTRICOS

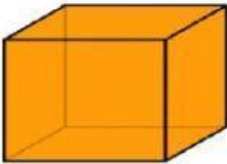
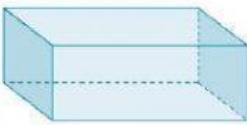
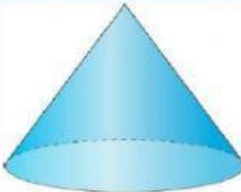
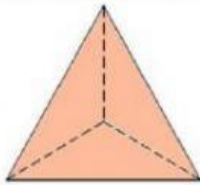
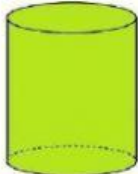

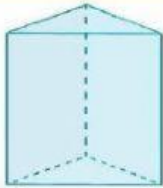
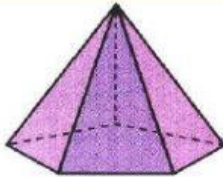
Selecciona la respuesta correcta.



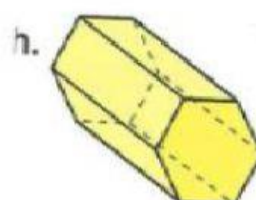
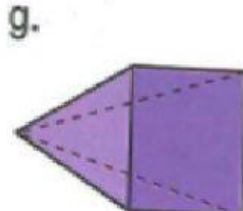
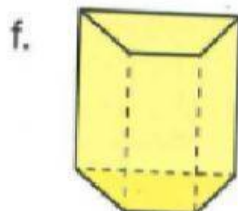
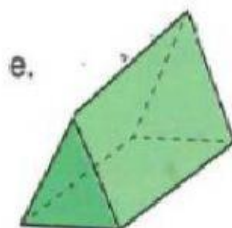
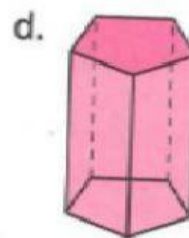
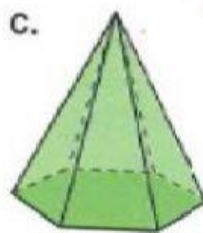
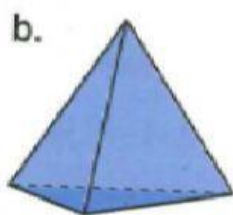
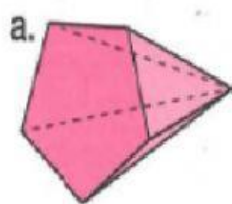
<p>a. La figura que aparece es...</p>  <table border="1"> <tr> <td>ESFERA</td> <td>CÓNO</td> <td>CILINDRO</td> <td>CUBO</td> </tr> <tr> <td>1. <input type="checkbox"/></td> <td>2. <input type="checkbox"/></td> <td>3. <input type="checkbox"/></td> <td>4. <input type="checkbox"/></td> </tr> </table>	ESFERA	CÓNO	CILINDRO	CUBO	1. <input type="checkbox"/>	2. <input type="checkbox"/>	3. <input type="checkbox"/>	4. <input type="checkbox"/>	<p>b. La figura que aparece es...</p>  <table border="1"> <tr> <td>ESFERA</td> <td>PIRÁMIDE</td> <td>CUBO</td> <td>PRISMA</td> </tr> <tr> <td>1. <input type="checkbox"/></td> <td>2. <input type="checkbox"/></td> <td>3. <input type="checkbox"/></td> <td>4. <input type="checkbox"/></td> </tr> </table>	ESFERA	PIRÁMIDE	CUBO	PRISMA	1. <input type="checkbox"/>	2. <input type="checkbox"/>	3. <input type="checkbox"/>	4. <input type="checkbox"/>
ESFERA	CÓNO	CILINDRO	CUBO														
1. <input type="checkbox"/>	2. <input type="checkbox"/>	3. <input type="checkbox"/>	4. <input type="checkbox"/>														
ESFERA	PIRÁMIDE	CUBO	PRISMA														
1. <input type="checkbox"/>	2. <input type="checkbox"/>	3. <input type="checkbox"/>	4. <input type="checkbox"/>														
<p>c. La figura que aparece es...</p>  <table border="1"> <tr> <td>CILINDRO</td> <td>CÓNO</td> <td>PRISMA</td> <td>ESFERA</td> </tr> <tr> <td>1. <input type="checkbox"/></td> <td>2. <input type="checkbox"/></td> <td>3. <input type="checkbox"/></td> <td>4. <input type="checkbox"/></td> </tr> </table>	CILINDRO	CÓNO	PRISMA	ESFERA	1. <input type="checkbox"/>	2. <input type="checkbox"/>	3. <input type="checkbox"/>	4. <input type="checkbox"/>	<p>d. La figura que aparece es...</p>  <table border="1"> <tr> <td>PRISMA</td> <td>CÓNO</td> <td>PRISMA TRIANGULAR</td> <td>PIRÁMIDE TRIANGULAR</td> </tr> <tr> <td>1. <input type="checkbox"/></td> <td>2. <input type="checkbox"/></td> <td>3. <input type="checkbox"/></td> <td>4. <input type="checkbox"/></td> </tr> </table>	PRISMA	CÓNO	PRISMA TRIANGULAR	PIRÁMIDE TRIANGULAR	1. <input type="checkbox"/>	2. <input type="checkbox"/>	3. <input type="checkbox"/>	4. <input type="checkbox"/>
CILINDRO	CÓNO	PRISMA	ESFERA														
1. <input type="checkbox"/>	2. <input type="checkbox"/>	3. <input type="checkbox"/>	4. <input type="checkbox"/>														
PRISMA	CÓNO	PRISMA TRIANGULAR	PIRÁMIDE TRIANGULAR														
1. <input type="checkbox"/>	2. <input type="checkbox"/>	3. <input type="checkbox"/>	4. <input type="checkbox"/>														

Completa



	VÉRTICES <input type="text"/>		VÉRTICES <input type="text"/>
	CARAS <input type="text"/>		CARAS <input type="text"/>
	ARISTAS <input type="text"/>		ARISTAS <input type="text"/>
	VÉRTICES <input type="text"/>		VÉRTICES <input type="text"/>
	CARAS <input type="text"/>		CARAS <input type="text"/>
	ARISTAS <input type="text"/>		ARISTAS <input type="text"/>
	VÉRTICES <input type="text"/>		VÉRTICES <input type="text"/>
	CARAS <input type="text"/>		CARAS <input type="text"/>
	ARISTAS <input type="text"/>		ARISTAS <input type="text"/>
	VÉRTICES <input type="text"/>		VÉRTICES <input type="text"/>
	CARAS <input type="text"/>		CARAS <input type="text"/>
	ARISTAS <input type="text"/>		ARISTAS <input type="text"/>

Escribe cual es el polígono de su base de cada cuerpo geométrico y clasifícalos.



- a. La base es un
- b. La base es un
- c. La base es un
- d. La base es un
- e. La base es un
- f. La base es un
- g. La base es un
- h. La base es un



- es una
- es una
- es una
- es una
- es una
- es una
- es una
- es una

Une cada cuerpo geométrico con su definición.

Su base es un triángulo y tiene 4 vértices.

Su base es un cuadrilátero y tiene 6 caras.

Tiene dos bases, que son círculos.

Su base es un círculo y tiene 1 vértice.

Su base es un pentágono y tiene 15 aristas.

Tiene 8 caras laterales y 12 vértices.

