



Nome: _____ Turma: _____

Temos impostores entre nós!



1- Impostores sumiram com alguns números. descubra o segredo e complete as retas numéricas abaixo!

a) Segredo é _____



b) Segredo é _____




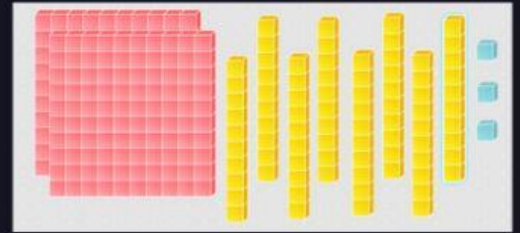


c) Segredo é _____



d) Segredo é _____



2- O  criou alguns enigmas com blocos. Será que você consegue descobrir que números ele montou?



3- O  falou que o impostor sabe fazer contas.

Resolva as contas no seu caderno e arraste o resultado para a conta correta.

$$\begin{array}{r} 5486 \\ + 3215 \\ \hline \end{array}$$

$$\begin{array}{r} 13280 \\ + 5291 \\ \hline \end{array}$$

$$\begin{array}{r} 8319 \\ + 2573 \\ \hline \end{array}$$

$$\begin{array}{r} 1358 \\ - 479 \\ \hline \end{array}$$

$$\begin{array}{r} 9023 \\ - 3105 \\ \hline \end{array}$$

$$\begin{array}{r} 702 \\ - 49 \\ \hline \end{array}$$

879

10.892

18.571

8.701

653

5.918

