

Mathematic


SD. Islam Plus As-Sa'adain

By:Ka Mega

Nama : _____

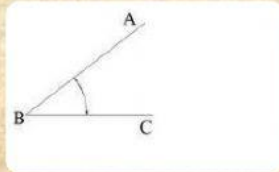
Kelas : _____

Tonton video dibawah ini dulu ya....



Untuk pembelajaran kali ini TEMA nya sudut yaitu **Mengukur Sudut dan Menggambar Sudut**

- Alat yang digunakan untuk mengukur sudut adalah **BUSUR**
- **Contoh**




Nama sudut disamping adalah **sudut ABC** atau **CBA**.

Jadi titik sudutnya di tengah ya.

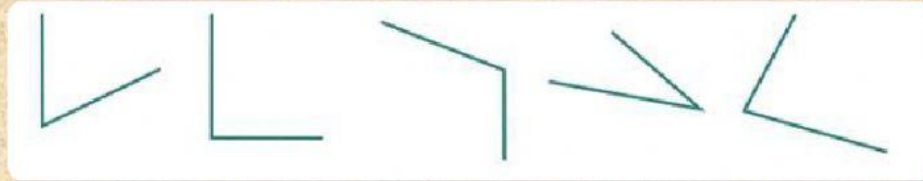
Jika bacanya CAB, BAC, ACB, BCA (**ini salah ya**)

Dengar Rekaman ini ya

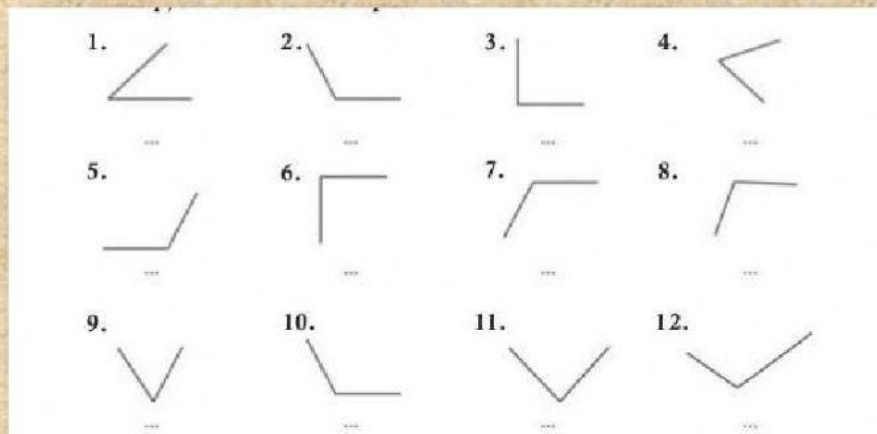


Sekarang kita praktek yukk

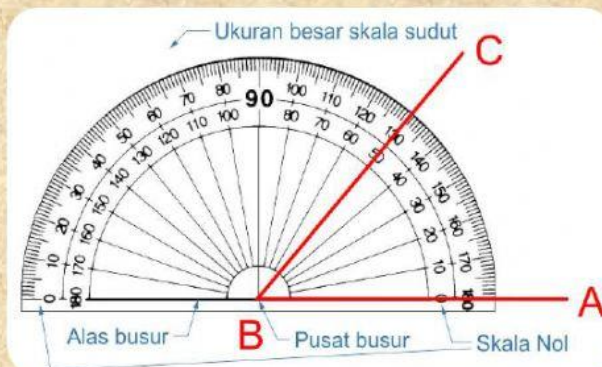
A. Klik yang merupakan Sudut Lancip



B. Klik yang merupakan Sudut Tumpul

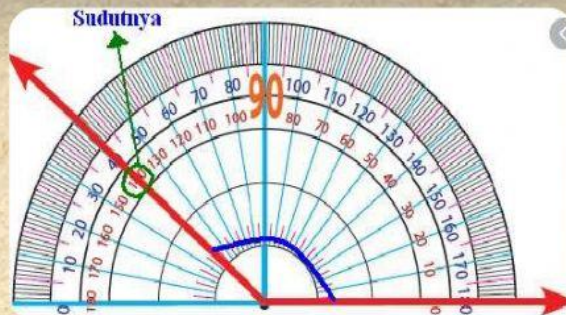


C.



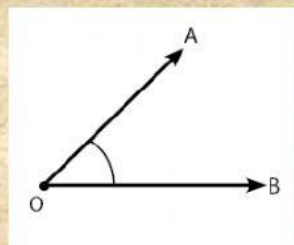
Besar sudut disamping
adalah derajat

D.



Besar sudut disamping
adalah derajat

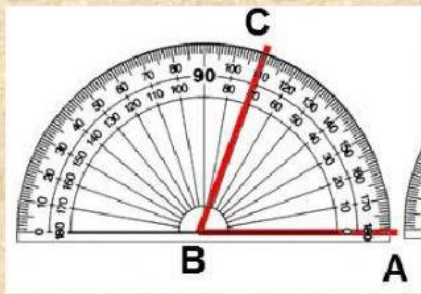
E.



Nama Sudut disamping AOB

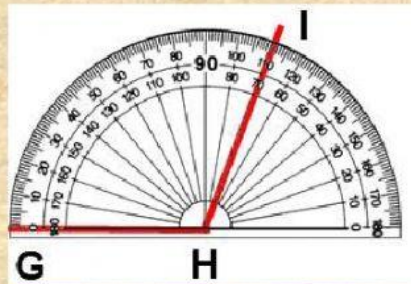


F.



Besar sudut disamping
adalah derajat

G.



Besar sudut disamping
adalah derajat

Main Puzzle Yuk!

