

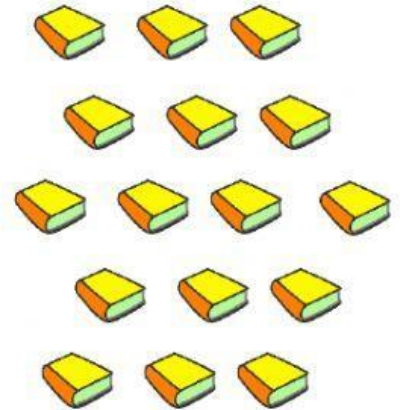
PICTOGRAMAS

1. Completa el siguiente pictograma según la información brindada.

Cada representa  1 cuaderno.

Cuadernos vendidos en la librería de Mary.
























Días	Representación	Total
Lunes		3
Martes		5
Miércoles		2
Jueves		6



2. Observa el pictograma, completa los datos y responde las preguntas.

Cada representa  1 jugo

Jugos vendidos en la juguería de Pepe.

Jugos	Representación	Total
Piña	 	2
Papaya	        	_____
Fresa	    	_____
Naranja	      	_____

- a) ¿Cuántos jugos de papaya se vendieron? _____
- b) ¿Cuántos jugos de piña se vendieron? _____
- c) ¿Qué sabor fue el preferido? _____
- d) ¿Qué sabor se vendió menos? _____