



AVALIAÇÃO DIAGNÓSTICA DE ENTRADA

2021

MATEMÁTICA

2º ano do Ensino Fundamental

Nome da Escola _____

Nome do Aluno _____

Data ____/____/____ Turma _____

UTILIZE O LECTOR RESPOSTA ABAIXO DESSA LINHA ENQUADRANDO A CÂMERA

 **LIVEWORKSHEETS**

01) (M02044617) Observe abaixo Leandro em sua cozinha.



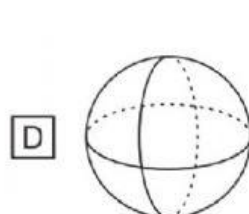
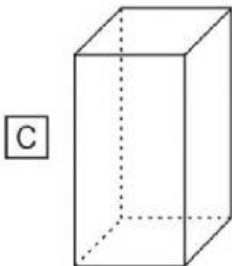
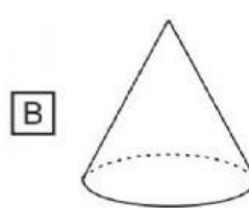
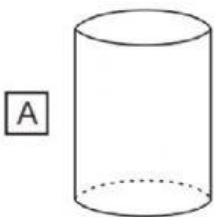
Qual é o objeto que está em cima do balcão?



02) (M010712H6) Observe abaixo o desenho de uma lata de milho.



A forma dessa lata de milho lembra qual figura geométrica?



03) (M01042117) Daniel tem 5 livros e Murilo tem 2 livros.
Quantos livros Daniel e Murilo têm juntos?

☐ A 3

☐ B 6

☐ C 7

☐ D 52





04) (M01042317) Observe, na imagem abaixo, os horários das atividades que Lucas fez ao longo do dia.

				
8 HORAS	10 HORAS	12 HORAS	13 HORAS	15 HORAS

De acordo com essa imagem, o que Lucas fez depois das 13 horas?



05) (M010662H6) Observe abaixo a quantidade de chapéus que quatro amigos têm.



Qual desses amigos tem a maior quantidade de chapéus?

- ☐ A CARLOS.
 ☐ B JOANA.
- ☐ C LUCAS.
 ☐ D MARA.

06) (M030140I7) Gustavo e Lucas jogam no mesmo time de futebol. Em uma partida, Gustavo fez 5 gols e Lucas fez 7 gols.

Quantos gols Gustavo e Lucas fizeram ao todo nessa partida?

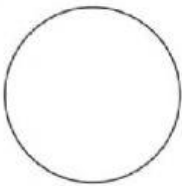
- ☐ A 2
 ☐ B 5
- ☐ C 11
 ☐ D 12

07) (M010716H6) Observe abaixo o desenho de uma capa de celular que Tiago comprou.




A forma dessa capa de celular lembra qual figura geométrica?

A



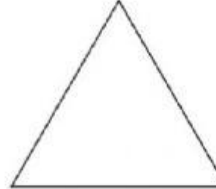
B



C



D



08) (M020484I7) Observe os bancos abaixo.



Qual desses bancos é o mais baixo?

A

I

B

II


C

III

D

IV

09) (M01014717) Observe abaixo as garrafas de leite em cima da mesa.



Quantas garrafas de leite tem, ao todo, em cima dessa mesa?

☐ A 3

☐ B 4

☐ C 5

☐ D 6

10) (M02009417) Jaqueline viajou para o Rio de Janeiro e ficou 2 semanas.
Quantas dias Jaqueline ficou no Rio de Janeiro?

☐ A 30 DIAS.

☐ B 14 DIAS.

☐ C 10 DIAS.

☐ D 7 DIAS.