




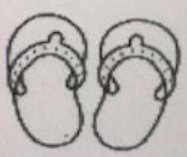




PARA CALCULAR Y PENSAR

1) CONTÁ CUÁNTO DINERO TIENEN LOS CHICOS Y ESCRIBILO EN NÚMEROS.

Micaela	Marcos
 <div>\$ 200</div> <div>\$ 100</div> <div>\$ 50</div> <div>\$ 50</div>	 <div>\$ 300</div> <div>\$ 200</div> <div>\$ 100</div> <div>\$ 10</div>
\$ _____	\$ _____



2) SELECCIONÁ QUÉ COSAS PODRÍA COMPRARSE MARCOS CON SU DINERO.
¿PARA QUÉ LE ALCANZA?

		
\$ 410	\$ 590	\$ 650
		
\$ 900	\$ 600	\$ 720

3) COMPLETÁ CUÁNTO LE FALTA A CADA UNO PARA LLEGAR A \$300
ESCRIBÍ LOS BILLETES Y MONEDAS QUE SEAN NECESARIOS.

¡Podés usar estos billetes y estas monedas!

\$100 \$ 50 \$ 10 \$1

 <div>\$ 50</div> <div>\$ 100</div> <div>\$ 50</div>	
 <div>\$ 10</div> <div>\$ 10</div> <div>\$ 100</div> <div>\$ 20</div>	<div>\$1</div> <div>\$1</div> <div>\$1</div>