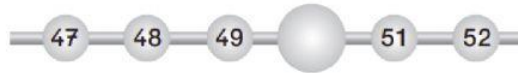



1 Quale numero manca nelle seguente successione di numeri?



- ☐ a. 44
- ☐ b. 50
- ☐ c. 43

2 I bambini di una classe seconda hanno costruito il grafico delle loro vacanze. Quanti sono andati al mare?

ogni  rappresenta 1 alunno.

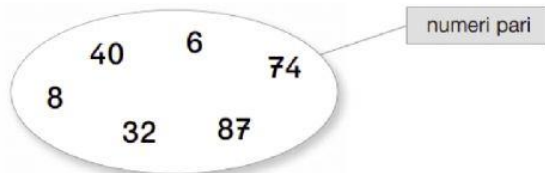


- ☐ a. 9
- ☐ b. 8
- ☐ c. 18

3 Quale numero corrisponde a 8 decine e 7 unità?

- ☐ a. 78
- ☐ b. 80
- ☐ c. 87

4 Questo è un insieme di numeri pari. C'è un intruso. Qual è?



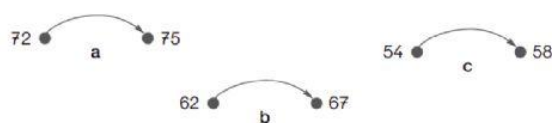
- ☐ a. 74
- ☐ b. 87
- ☐ c. 32

5 Quale numero manca sui puntini per completare l'operazione?

$9 \times \dots = 54$

- ☐ a. 6
- ☐ b. 8
- ☐ c. 9

6 La freccia dice: «+ 5». Qual è lo schema giusto?



- ☐ a
- ☐ b
- ☐ c