



Uji Pembelajaran 3



I. Berilah tanda silang (x) huruf a, b, atau c pada jawaban yang paling benar!



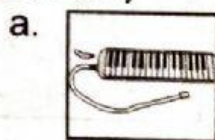
1. Penulisan tanda titik pada kalimat pernyataan terletak di bagian ... kalimat. (B. Indonesia - KD 3.10)

a. awal c. akhir
b. tengah



2. Alat musik yang tidak mempunyai nada disebut dengan alat musik (SBdP - KD 3.2)

a. ritmis c. perkusi
b. melodis

3. Berikut yang merupakan alat musik ritmis adalah (SBdP - KD 3.2)



4. Jam yang menunjukkan pukul empat adalah (Matematika - KD 3.6)



Waktu yang ditunjukkan pada jam di atas adalah pukul (Matematika - KD 3.6)

a. tujuh c. sembilan
b. delapan

Uji Pembelajaran 4

Skor



I. Berilah tanda silang (x) huruf a, b, atau c pada jawaban yang paling benar!

1. Penulisan kalimat pernyataan diakhiri dengan tanda (B. Indonesia - KD 3.10)

a. tanya

b. seru

c. titik

2. Tanda "<" berarti tekanan lagu dari **(SBdP - KD 3.2)**

- a. kuat ke lemah
- b. lemah ke kuat
- c. keras ke lemah

3.  Waktu yang ditunjukkan jam di samping ditulis **(Matematika - KD 3.6)**

- a. 04.00
- b. 05.00
- c. 06.00

4. Pukul 10.00 ditandai dengan jarum panjang di angka **(Matematika - KD 3.6)**

- a. 6
- b. 10
- c. 12

5.  Waktu yang ditunjukkan jam di samping adalah pukul **(Matematika - KD 3.6)**

- a. dua belas
- b. satu
- c. dua