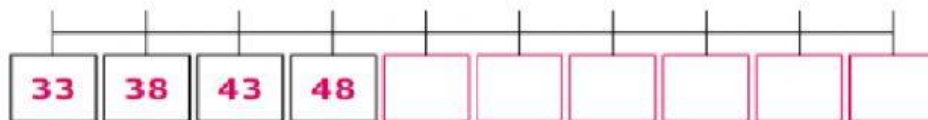
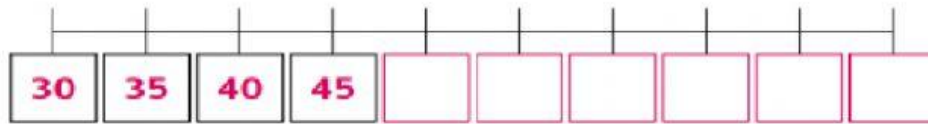
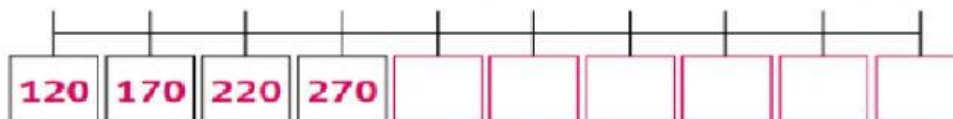
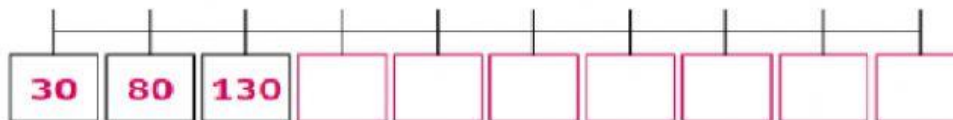


Observa las siguientes secuencias. Entre un número y el siguiente se aplica la misma regla.  
Escribe los números que faltan.

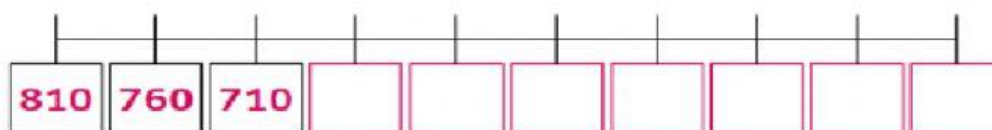
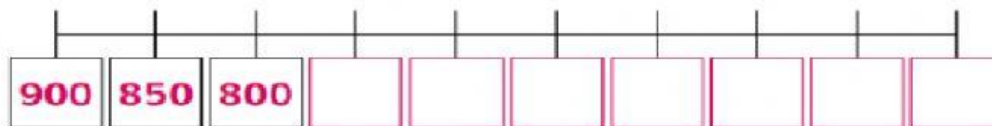
a) La secuencia aumenta de 5 en 5



b) La secuencia aumenta de 50 en 50



c) La secuencia disminuye de 50 en 50



d) La secuencia disminuye de 100 en 100

