



AVALIAÇÃO DIAGNÓSTICA DE ENTRADA

2021

MATEMÁTICA

1º ano do Ensino Fundamental




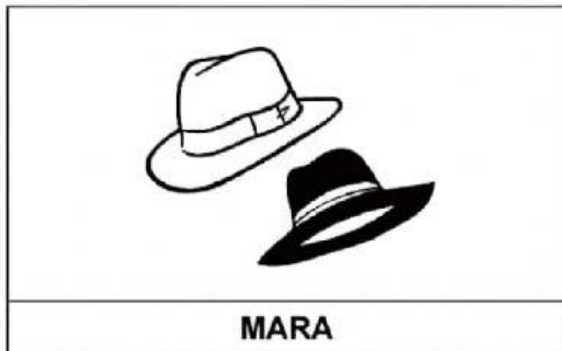
Nome da Escola _____

Nome do Aluno _____

Data ____/____/____

Turma  **LIVEWORKSHEETS**

01) (M010662H6) Observe abaixo a quantidade de chapéus que quatro amigos têm.



Qual desses amigos tem a maior quantidade de chapéus?

- | | |
|------------------------------------|-----------------------------------|
| <input type="checkbox"/> A CARLOS. | <input type="checkbox"/> B JOANA. |
| <input type="checkbox"/> C LUCAS. | <input type="checkbox"/> D MARA. |

02) (M030140I7) Gustavo e Lucas jogam no mesmo time de futebol. Em uma partida, Gustavo fez 5 gols e Lucas fez 7 gols.

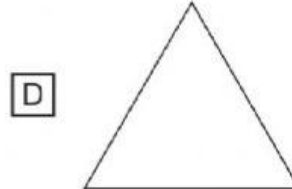
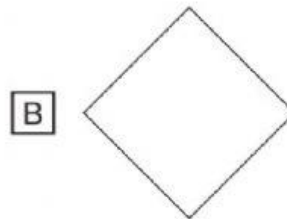
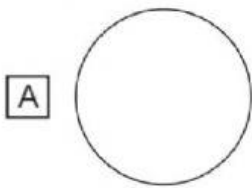
Quantos gols Gustavo e Lucas fizeram ao todo nessa partida?

- | | |
|-------------------------------|-------------------------------|
| <input type="checkbox"/> A 2 | <input type="checkbox"/> B 5 |
| <input type="checkbox"/> C 11 | <input type="checkbox"/> D 12 |

03) (M010716H6) Observe abaixo o desenho de uma capa de celular que Tiago comprou.



A forma dessa capa de celular lembra qual figura geométrica?



04) (M020484I7) Observe os bancos abaixo.



Qual desses bancos é o mais baixo?


A I

B II

C III

D IV

05) (M010605H6) Observe abaixo os livros que a professora Flora tem na prateleira.



Quantos livros a professora Flora tem, ao todo, nessa prateleira?

☐ A 6

☐ B 7

☐ C 8


☐ D 9

06) (M02032017) Qual desses celulares é o maior?

☐ A



☐ B




☐ C



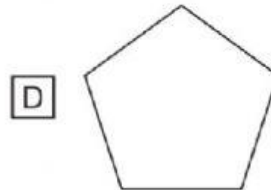
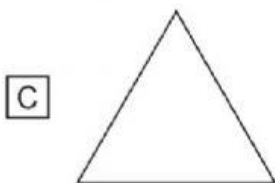
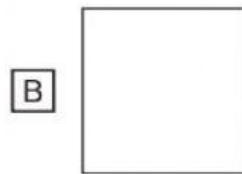
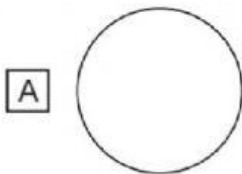
☐ D



07) (M011109H6) Observe abaixo o desenho de um par de brincos.



A forma desse par de brincos lembra qual figura geométrica?



08) (M020486I7) Observe, na imagem abaixo, os horários das atividades que Marcela, Ana e Paula fizeram ao longo do dia.

8 HORAS	10 HORAS	11 HORAS	13 HORAS	14 HORAS

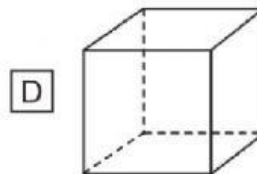
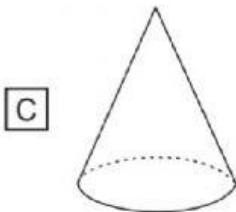
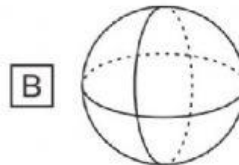
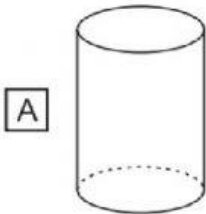
De acordo com essa imagem, o que Marcela, Ana e Paula fizeram depois das 13 horas?



09) (M02028717) Observe abaixo o desenho de uma lata de chá.



A forma dessa lata de chá lembra qual figura geométrica?



10) (M01014817) Observe, no cesto abaixo, os ovos que Janete comprou.



Quantos ovos, ao todo, Janete comprou?

A 3

B 4

C 5

D 6





11) (M01038817) Observe abaixo os animais em uma floresta.



Qual é o animal que está mais perto do coelho?



12) (M01017117) Observe abaixo a quantidade de flores que quatro amigas levaram para a professora.

	
CAMILA	MARIANA
	
GISELE	LARISSA

Qual dessas amigas levou a menor quantidade de flores?


A CAMILA.

B GISELE.

C LARISSA.

D MARIANA.

13) (M010075G5) Observe abaixo o desenho de alguns pintinhos.



Quantos pintinhos há, no total, nesse desenho?


☐ A 5

☐ B 6

☐ C 7

☐ D 9

14) (M020370E4) João levou uma bola para a escola. Na aula de Matemática, ele observou que a bola tinha o mesmo formato de um dos sólidos que estavam na mesa do professor. Observe abaixo.



A bola lembra a forma de qual sólido que está nessa mesa?

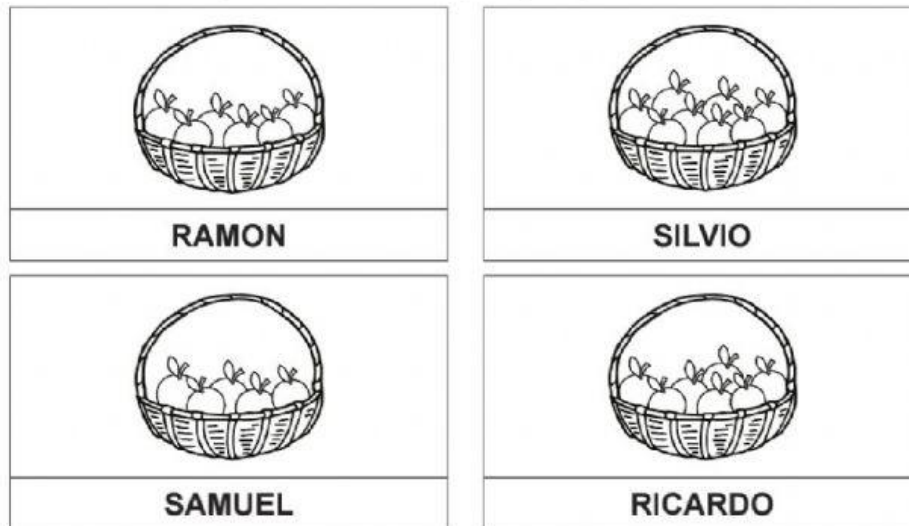
☐ A 

☐ B 

☐ C 

☐ D 

15) (M011101H6) Observe abaixo a quantidade de laranjas que quatro irmãos colheram em um pomar.



Qual desses irmãos colheu a maior quantidade de laranjas?

- ☐ A SILVIO.
 ☐ B SAMUEL.
 ☐ C RICARDO.
 ☐ D RAMON.

16) (M010026I7) Observe abaixo os objetos no desenho da cozinha de Lucas.



Qual é o objeto que está mais próximo da torneira?

- ☐ A 
☐ B 
☐ C 
☐ D 