









| | | | | | | |
|---|--------------------------|---|-------------------|------------|---|---|
|  | | <div>PRUEBA</div> <div>PRIMER PARCIAL SEGUNDO QUIMESTRE</div> | | | |  |
| NIVEL: | BÁSICA MEDIA | ASIGNATURA: | ESTUDIOS SOCIALES | | | AÑO LECTIVO 2020-2021 |
| GRADO: | 7MO | PARALELO: | A | QUIMESTRE: | 2 | |
| DOCENTE: | LCDA. CRISTINA SARMIENTO | | ESTUDIANTE: | | | |

1. Enlace correctamente los siguientes enunciados referentes a las consecuencias de la migración. (3 OPT)

-  Para los países receptores.
-  Para los migrantes.
-  Para los países emisores.

-  Se separaron de sus familias. Sufrieron xenofobia, violencia y discriminación.
-  Perdieron mano de obra. La separación familiar causó problemas sociales.
-  Solucionaron su problema de mano de obra especializada.

2. Seleccione cuál de los siguientes proyectos de integración corresponden a Latinoamérica. (2 OPT)



| | |
|--------|------|
| UNASUR | APEC |
| CAN | CEE |

3. Establezca si los siguientes enunciados sobre los regímenes de las décadas a finales del siglo XX son verdaderos o falsos. (2 OPT)

Los movimientos sociales destituyeron a varios presidentes. _____

Jamil Mahuad fue sustituido por Abdalá Bucaram. _____

4. Enlace según corresponda los siguientes enunciados acerca de los objetivos de los siguientes organismos de integración sudamericana. (2 OPT)

Comunidad Andina de Naciones

UNASUR

Desarrollo industrial interno.

Coordinación política, comercial,
industrial y financiera
sudamericana.

5. Identifique si los siguientes enunciados acerca del relieve de la región Litoral son verdadero o falso. (2 OPT)



La región Litoral está formado por valles y llanuras fértiles, colinas y elevaciones de poca altitud. _____

Siete provincias de la región Litoral cuentan con playas y balnearios aptos para el turista. _____

El relieve de la región Litoral se distingue por la presencia de la cordillera Costera. _____

El relieve de la región Litoral sobrepasa los 1000 metros sobre el nivel del mar. _____

6. Empareje cada uno de los elementos frecuentes del relieve costero con su respectiva característica. (3 OPT)

Delta

Ribera del mar o de un río.

Estuario

Terreno que se ubica entre los brazos de un río en su desembocadura.

Acantilado

Desembocadura en forma de V.

Playa

Costas altas de pendiente abrupta.

7. Complete el siguiente enunciado sobre Manglar con las palabras que se encuentran en el recuadro. (3 OPT)

árboles, salada, desembocaduras

- El manglar está formado por un conjunto de _____ que se han adaptado al agua _____; ocupan la zona cercana a las _____ de agua dulce en el mar.
8. Seleccione verdadero o falso a los siguientes enunciados sobre la Hidrografía de la región Litoral. (3 OPT)
- El río Guayas es el principal río navegable en la Costa occidental. _____
 - El segundo río más importante de la región costanera es el río Esmeraldas. _____
 - Los ríos de la región Litoral desembocan en el océano Atlántico. _____
9. Precise si los siguientes enunciados son verdaderos o falsos, acerca del fenómeno de El Niño en Ecuador. (2 OPT)

- Su nombre se debe a que ocurre en enero. (_____)
- Llegan aguas con mayor temperatura a las costas ecuatoriana. (_____)
- Para disminuir los daños causados, se han construido diques alrededor de los ríos. (_____)

10. Identifique cuál respuesta es correcta acerca de los recursos naturales agrícolas de la región costanera ecuatoriana. (2 OPT)

Recursos agrícolas:



Arroz

Café

Uvas

11. Recuerde cuáles son los tipos de clima de la región costanera y encuétralos en la sopa de letras. (3 OPT)

| | | | | | | | | | | | | | | | | |
|---|---|---|---|---|---|---|---|---|---|---|---|---|---|---|---|---|
| A | T | R | O | P | I | C | A | L | S | E | C | O | N | U | A | S |
| B | N | M | U | I | O | P | F | D | G | U | Y | H | Y | D | U | M |
| T | R | O | P | I | C | A | L | H | U | M | E | D | O | G | E | N |
| E | V | G | J | K | U | I | O | B | G | F | R | D | E | S | P | E |
| T | R | O | P | I | C | A | L | L | U | V | I | O | S | O | X | |
| U | I | K | J | Y | O | P | W | E | R | T | Y | H | B | M | A | X |
| M | C | V | G | Y | D | A | S | J | K | K | L | N | L | I | N | E |

12. Identifique, cuál es el principal atractivo turístico del parte Nacional Machalilla?, luego seleccione verdadero o falso según corresponda.



- Tortugas gigantes.
- Isla de la Plata.
- Ballenas jorobadas.

13. Complete el siguiente enunciado acerca de las Islas Galápagos. (1OPT)

Las Islas Galápagos son una reserva ecológica que está constituida por nueve islas de origen _____.

14. Enlace según corresponda los siguientes enunciados acerca de las reservas ecológicas de la región Litoral. (4OPT)

| | | |
|----------------------------|--|---|
| Manglares Churute | | Una de las primeras áreas protegidas del Ecuador. |
| Parque Nacional Machalilla | | Ubicado en la provincia del Guayas |
| Islas Galápagos | | Existencia de especies endémicas. |
| | | Contiene gran cantidad de manglares. |