



NAMA :

KELAS :

Klik dan simak video di bawah ini, dengarkan penjelasannya dengan baik



A. Kerjakan soal-soal dibawah ini dengan memilih a, b atau c yang dianggap benar!

1. Angsa berkembang biak dengan cara . . .
  - a. Beranak
  - b. Melahirkan
  - c. Bertelur
2. Manusia membutuhkan oksigen untuk . . .
  - a. Bernafas
  - b. Berkembang
  - c. Tumbuh
3. Saat bayi, kita sangat kecil. Sekarang kita sudah besar. Artinya, benda hidup mengalami . . .
  - a. Penyusutan
  - b. Pertambahan
  - c. Pertumbuhan
4. Setiap hari Edo memberi makan ayamnya. Sehingga ayam Edo akan . . .
  - a. Tumbuh besar
  - b. Bernafas
  - c. Bergerak



5. Ciri-ciri kerbau di bawah ini yang benar adalah . . .


- a. Dapat terbang
- b. Hidup di air
- c. Berkaki empat

6. Gerak lokomotor merupakan . . .

- a. Gerak berirama
- b. Gerak berpindah tempat
- c. Gerak di tempat

7. Supaya tidak jatuh saat berjalan, kita harus menjaga . . .

- a. Keseimbangan
- b. Kelincahan
- c. Kecepatan



8. Saat berolahraga, badan melakukan . . .

- a. Tarian
- b. Gerakan
- c. Istirahat

9. Berlari dapat melatih kekuatan otot . . .

- a. Punggung
- b. Leher
- c. Kaki

10. Pemanasan dilakukan . . . berolahraga

- a. Sebelum
- b. Selama
- c. Sesudah

