


Actividad de refuerzo

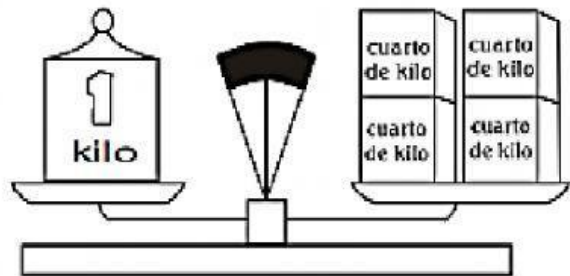
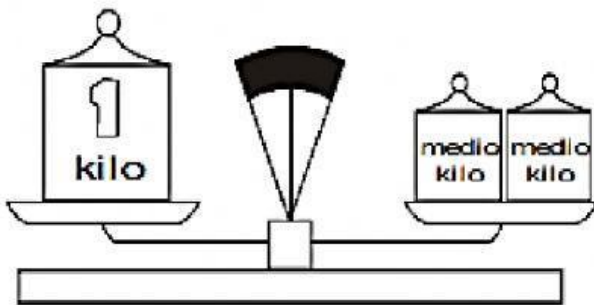
❖ Completa

La masa es la que tiene un cuerpo.

La unidad de masa es el . La masa también se puede medir en



=



1 kilo equivale a medios kilos.

1 kilo equivale a cuartos de kilo.

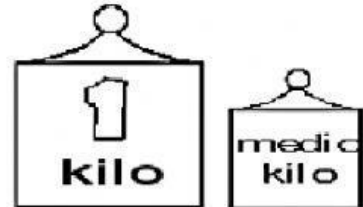
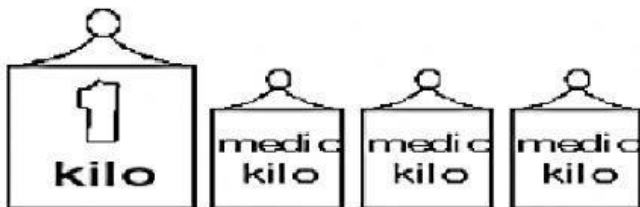
❖ Responde ¿Qué cantidad hay? Arrastra las equivalencias

2 kilos

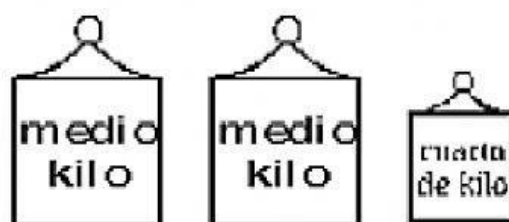
1 kilo y 1/4

1 kilo y 1/2


2 kilos y 1/2







❖ MARCA con "X" indicando la unidad que usa para calcular la masa de los dibujos.



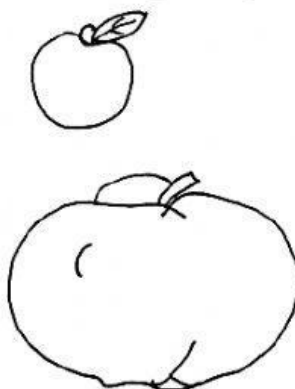

 g kg

 g kg

 g kg

 g kg

❖ Marca el objeto que tiene más masa en cada grupo



❖ Ordena estas pesas de mayor a menor peso, escribiendo debajo el número desde 1 para mayor hasta el 5 para el menor.



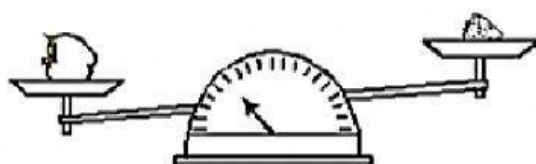











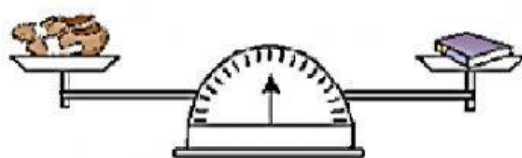
❖ Observo la balanza y completo con la palabra más, menos o igual.




La  tiene _____ peso que la .





La  tiene _____ peso que el .

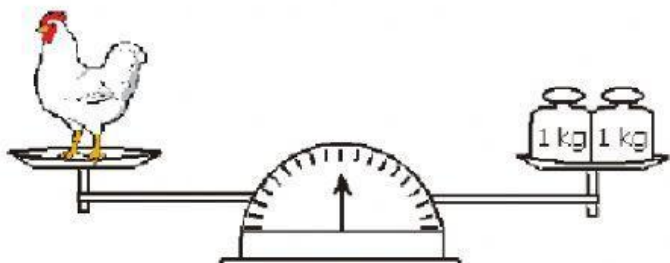


Los  tienen _____ peso que el .

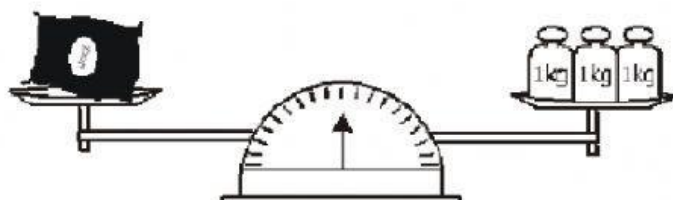


El  tiene _____ peso que la .

❖ Observo la balanza y escribo el peso de cada objeto.



Peso de la gallina = _____ kg



Peso de la saco de arroz = _____ kg