



Ministero dell'Istruzione
dell'Università e della Ricerca



Istituto nazionale per la valutazione
del sistema educativo di istruzione e di formazione

Rilevazione degli apprendimenti


Anno Scolastico 2014 – 2015

PROVA DI MATEMATICA

Scuola Primaria

Classe Seconda

Fascicolo 1



Spazio per l'etichetta autoadesiva

D1. Sara nel portafoglio ha questi soldi.



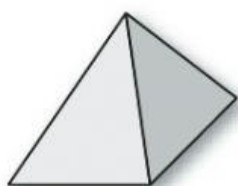
Quanti euro ha Sara nel portafoglio?

- A. ☐ 421 euro
- B. ☐ 142 euro
- C. ☐ 124 euro

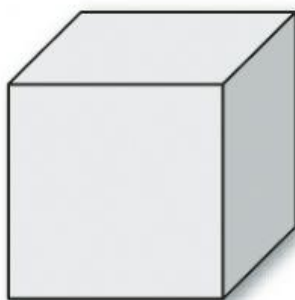
D2. Luca ha usato 2 pezzi delle sue costruzioni per costruire questa casetta.



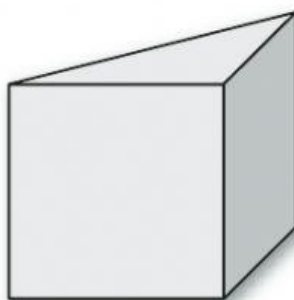
Quali fra questi pezzi ha usato Luca?



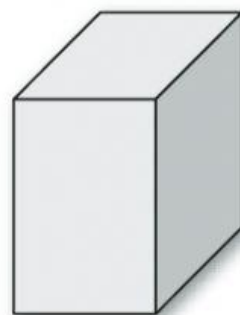
Pezzo A



Pezzo B



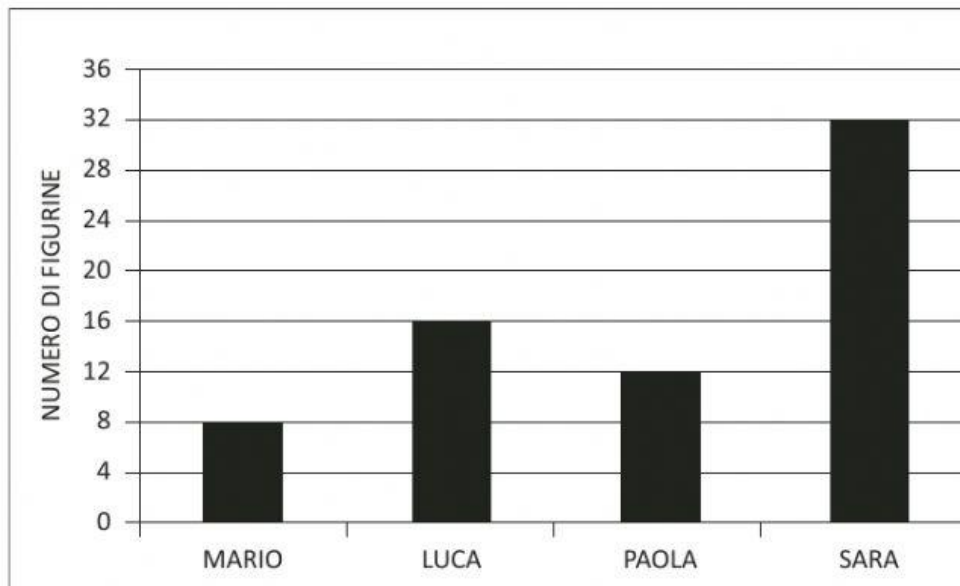
Pezzo C



Pezzo D

Risposta: il pezzo e il pezzo

- D3. Questo grafico rappresenta il numero di figurine che Mario, Luca, Paola e Sara hanno in tasca.**



Osserva il grafico e rispondi.

- a. Luca ha il doppio delle figurine di Mario?**

☐ Sì ☐ No ☐ Non si può sapere

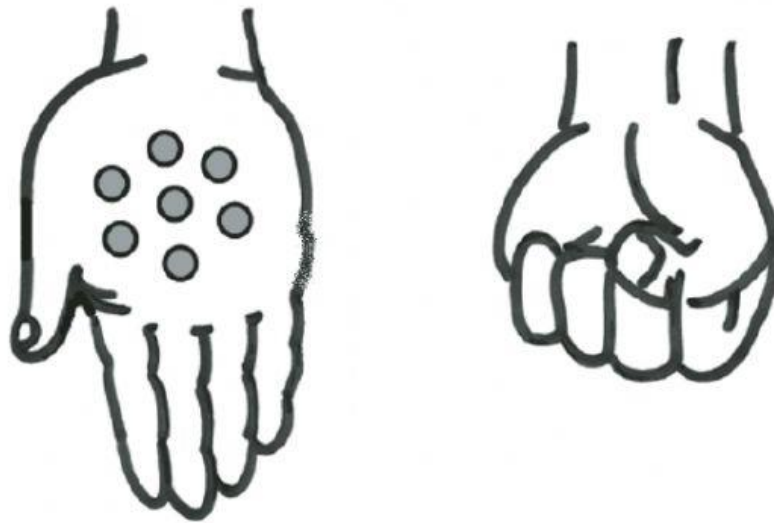
- b. Luca ha solo una figurina in più di Paola?**

☐ Sì ☐ No ☐ Non si può sapere

- c. Sara ha più anni di Luca?**

☐ Sì ☐ No ☐ Non si può sapere

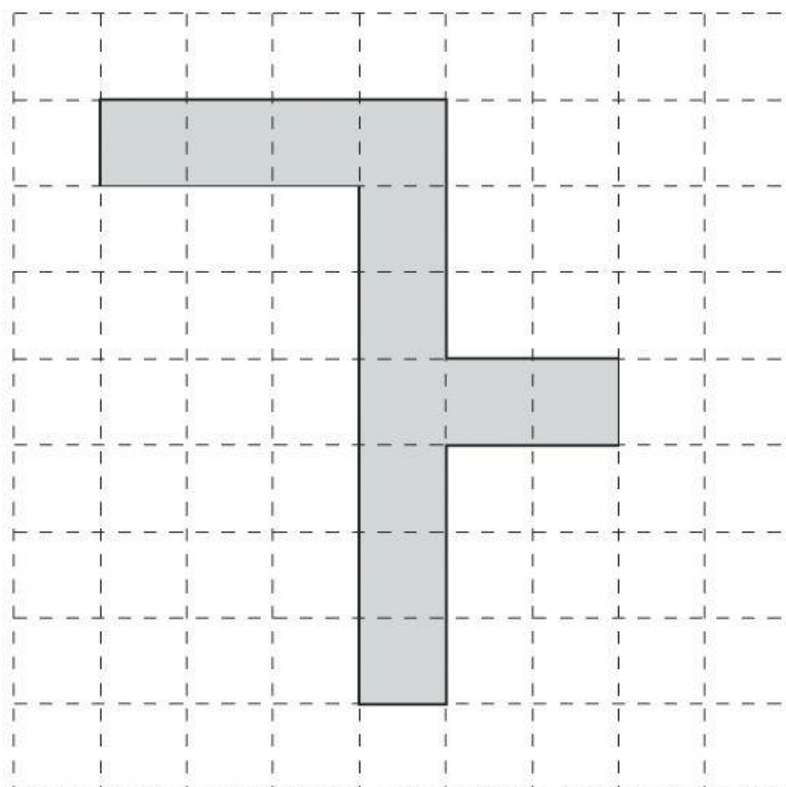
- D4. Giorgio ha in tutto 15 biglie nelle due mani.
Nella mano aperta ha 7 biglie.**



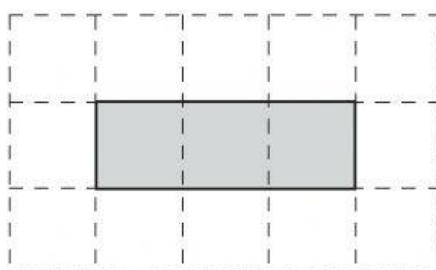
Ci sono più biglie nella mano chiusa o nella mano aperta?

- A. ☐ Nella mano aperta
- B. ☐ Nella mano chiusa
- C. ☐ Non si può sapere

- D5. Un muratore deve comporre con delle piastrelle la decorazione di un pavimento come quella in figura.



Sceglie piastrelle come questa:



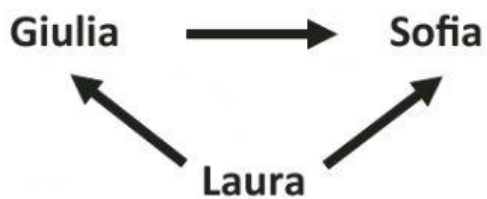
Le piastrelle non devono sovrapporsi. Quante piastrelle intere deve usare il muratore?

Risposta: piastrelle




- 

D9. Osserva lo schema.




La freccia  significa: È PIÙ ALTA DI...

Ora scrivi il nome delle bambine nelle caselle.



D10. Pietro deve apparecchiare la tavola.

Per ogni piatto servono 3 posate.



Completa.

- a.** Per 3 piatti servono posate
- b.** Per piatti servono 15 posate