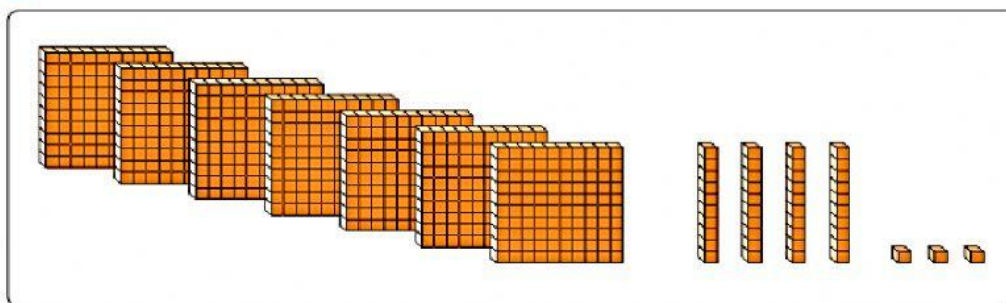




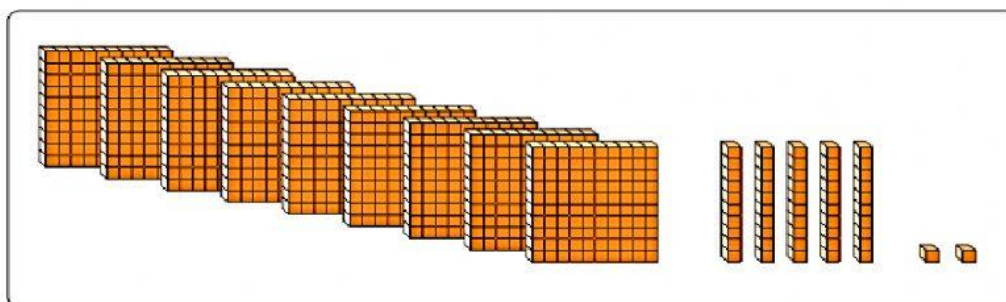
- 1 Escribe cada número según los valores posicionales de sus dígitos. Luego, escribe con cifras el número.

a.



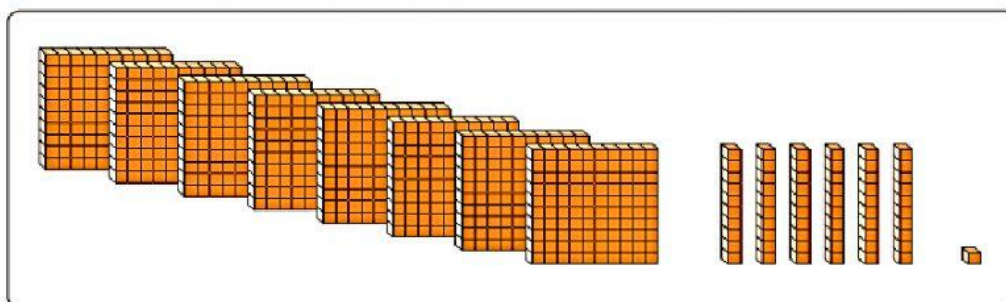
C, D y U es

b.



C, D y U es

c.



C, D y U es

- 2 Escribe con cifras cada número.

a. Trescientos siete ➤

b. Novecientos cuarenta ➤

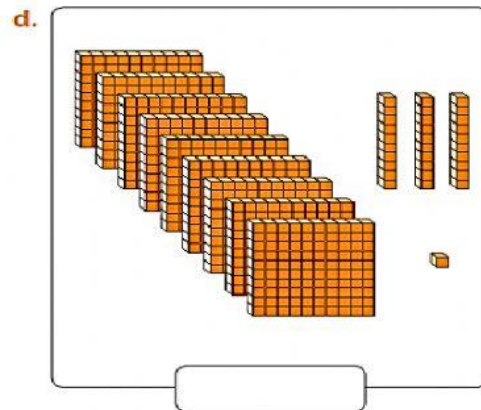
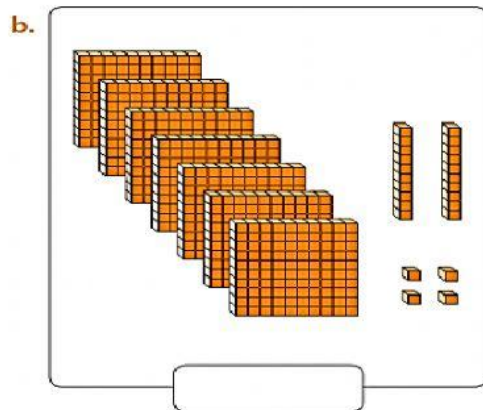
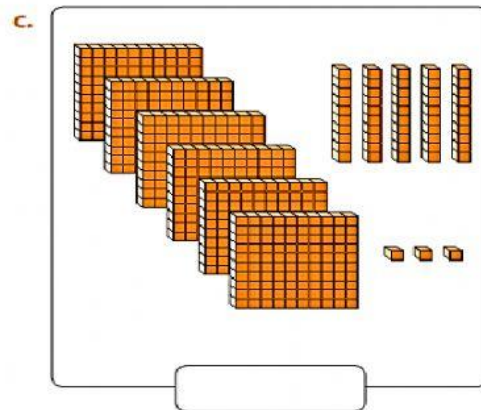
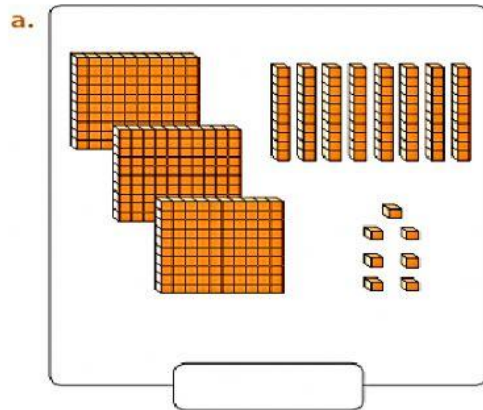
c. Ochocientos treinta y tres ➤

d. El número formado por 7 C, 2 D y 3 U ➤

e. El número formado por 5 C y 1 U ➤

f. El número formado por 4 C y 6 D ➤

3 Escribe los números con cifras



4 Escribe el valor posicional de la cifra destacada.

a. 701 ►

c. 921 ►

e. 874 ►

b. 590 ►

d. 305 ►

f. 260 ►

5 Escribe cada número con cifras.

a. Quinientos ochenta y dos. ►

b. Ochocientos nueve. ►

c. Setecientos sesenta. ►

d. Seiscientos uno. ►

e. Novecientos cuarenta y tres. ►

f. Cuatrocientos once. ►