

EXAMEN 01 – ÁLGEBRA 3RO DE PRIMARIA



Actividades

- 1 Encuentra el número escondido:

$$\boxed{} + 21 = 43$$

- 2 ¿Cuál es el número escondido?:

$$\boxed{} - 23 = 12$$

- 3 Calcula el valor de h .

$$h + 14 = 39$$

$$h = \underline{\hspace{2cm}}$$

- 4 Reemplaza el valor de C por 17 y completa:

$$C + 32 = \boxed{}$$

- 5 Calcula el valor de n

$$n - 43 = 51$$

$$n =$$

- 6 Completa y calcula «x»:

$$x + 13 = 72$$








La incógnita es





El valor de «x» es

7

ACERTIJOS MATEMÁTICOS

¿Cuál es el valor de cada figura?

	+	8	=	
	-	2	=	
	+	1	=	
	+	3	=	3

	=	<input type="text"/>
	=	<input type="text"/>
	=	<input type="text"/>
	=	<input type="text"/>

© www.proferrecursos.com

- 8 Calcula «x»:

$$x + 7 = 23$$

$$x = \underline{\hspace{2cm}}$$

- 9 Calcula «a»:

$$a + 19 = 44$$

$$a = \underline{\hspace{2cm}}$$

- 10 Calcula «x»:

$$x + 37 = 49$$

$$x = \underline{\hspace{2cm}}$$