

Nombre: _____

Matemáticas































Salón Recurso E.E.

1^{ER}
Grado

Destreza: El dinero (monedas de 1¢ y 5¢)



Cuenta hacia adelante. Escribe cuánto hay en total.

1.						Total
	. <u>1</u> ¢	. <u>2</u> ¢	. <u>3</u> ¢	. <u>4</u> ¢	. <u>5</u> ¢	. <u>5</u> ¢
2.						Total
	. <u> </u> ¢	. <u> </u> ¢	. <u> </u> ¢	. <u> </u> ¢	. <u> </u> ¢	. <u> </u> ¢
3.						Total
	. <u> </u> ¢	. <u> </u> ¢	. <u> </u> ¢	. <u> </u> ¢	. <u> </u> ¢	. <u> </u> ¢
4.						Total
	. <u> </u> ¢	. <u> </u> ¢	. <u> </u> ¢	. <u> </u> ¢	. <u> </u> ¢	. <u> </u> ¢
5.						Total
	. <u> </u> ¢	. <u> </u> ¢	. <u> </u> ¢	. <u> </u> ¢	. <u> </u> ¢	. <u> </u> ¢
6.						Total
	. <u> </u> ¢	. <u> </u> ¢	. <u> </u> ¢	. <u> </u> ¢	. <u> </u> ¢	. <u> </u> ¢