
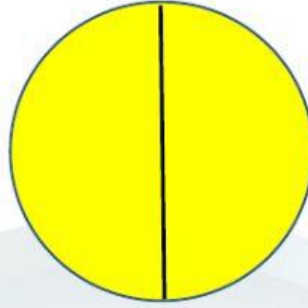









INTRODUCCIÓN A LA MULTIPLICACIÓN Y DIVISIÓN

UBIQUE LOS NOMBRES QUE CORRESPONDEN A CADA CÍRCULO MONTESSORI, RECUERDA LO APRENDIDO EN CLASE.

MEDIO**CUARTO****ENTERO**

LEOPARDITO OBSERVE DE MANERA DETENIDA EL NÚMERO ENTERO Y UBIQUE SUS MITADES CORRECTAMENTE.

18**=****+****20****=****+****12****=****+**

COMPLETE LO SIGUIENTE:

LOS SIGNOS DE LA MULTIPLICACIÓN Y DIVISIÓN:

✓ El código de la multiplicación es el color:

✓ El código de la división es el color:

RELACIONES CON LÍNEAS LO SIGUIENTE:

LOS SIGNOS DE LA MULTIPLICACIÓN Y DIVISIÓN:



DIVISIÓN
(Dividido para)

MULTIPLICACIÓN
(Por)

Una con líneas el procedimiento con sus círculos Montessori correctos:

$$18 = 9 + 9$$

$$20 = 10 + 10$$

$$6 = 3 + 3$$

$$10 + 10 = 2 \text{ Veces } 10 = 20$$

$$10 + 10 = 2 \text{ X } 10 = 20$$

$$3 + 3 = 2 \text{ Veces } 3 = 6$$

$$3 + 3 = 2 \text{ X } 3 = 6$$

$$9 + 9 = 2 \text{ Veces } 9 = 18$$

$$9 + 9 = 2 \text{ X } 9 = 18$$