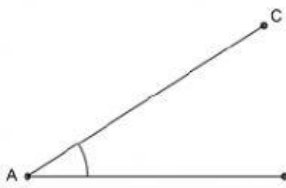

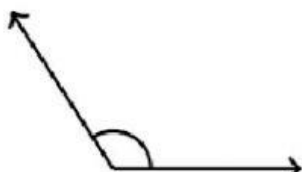


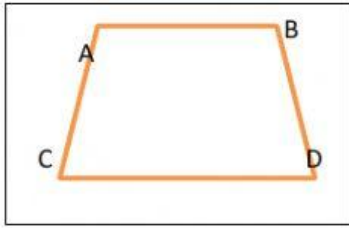
Jawablah sesuai pilihannya !

1.  Titik sudut ditunjukkan pada huruf ...
- A
 - B
 - C
 - Tidak ada

2.  sudut yang terbentuk pada jarum jam tersebut adalah sudut ...
- Siku-siku
 - Lancip
 - 0
 - Tumpul
3. Ujung sudut lancip berbentuk ...
- Tumpul
 - Runcing
 - Siku
 - Lurus
4. Sudut lurus dibentuk oleh garis ...
- Lurus
 - Melengkung
 - Zigzag
 - Tumpul
5. Jumlah sudut pada segitiga adalah ...
- 1
 - 2
 - 3
 - 4

6.  gambar disamping membentuk sudut ...
- Siku-siku
 - Lebar
 - Lancip

d. Tumpul



7. bagian yang membentuk sudut lancip adalah ...

- a. $\angle ABD$
- b. $\angle BDC$
- c. $\angle BAC$
- d. $\angle DAB$

8. besar sudut disamping adalah ...

- a. 90°
- b. 35°
- c. 60°
- d. 10°

