

이름:

공부한 날:

월

일

# 2

## 여러 가지 도형

무엇을 배웠는지 살펴볼까요

1  모양에  표 하세요.




2  모양에  표 하세요.






3  모양에  표 하세요.



4 모양이 같은 과자의 수를 써 보세요.



모양	과자의 수
 모양	개
 모양	개
 모양	개

2  
여러 가지 도형