



## Evaluación Mensual

Grado: 6°	Curso:: Geometría	Profesor: Jaime A. Cedamano T.
-----------	-------------------	--------------------------------

Apellidos y nombre: \_\_\_\_\_

1.- Relaciona cada elemento con su respectivo nombre. ( 1 Punto cada uno )

Segmento



Plano



Semirrecta



Punto



Recta



Rayo



2.- Menciona que elemento geométrico pertenece la siguiente notación (1 Punto cada uno )

$\overline{PQ}$

$\cdot A$

$\longleftrightarrow AB$

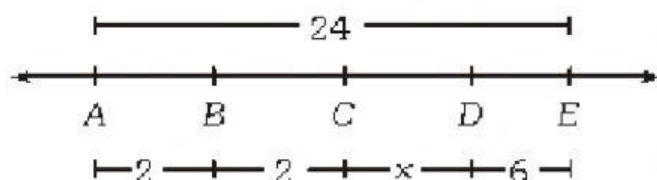
$\overrightarrow{OA}$

$\overrightarrow{OB}$

$\square P$

3.- Calcula lo que se pide en cada ejercicio y coloca su resultado en su respectivo cuadro de la derecha( 2 Puntos cada uno )

a. Calcular CD



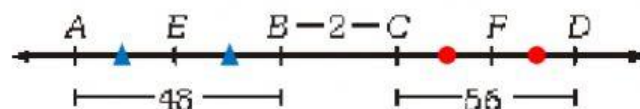
Respuesta:

b. Si  $AB = BC = 5$  y  $AD = 19$ . Calcular CD



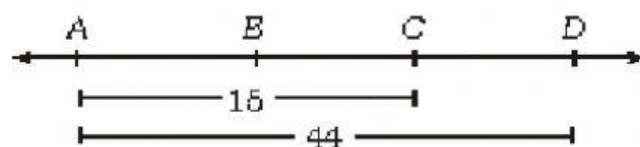
Respuesta:

b. Calcular EF



Respuesta:

b. Calcular CD



Respuesta: