


ESCOLA MUNICIPAL DR. ORLANDO IMBASSAHY

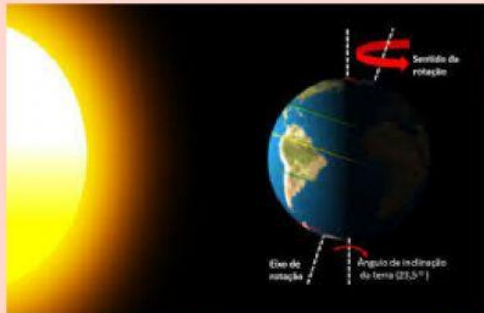
PRÓ: ALESSANDRA VENAS

NOME: _____ 2º ANO _____

ASSISTA O VÍDEO E RESPONDA SOBRE OS DOIS MOVIMENTOS QUE A TERRA FAZ:



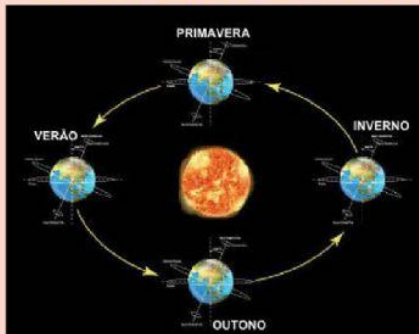
ROTAÇÃO É O MOVIMENTO QUE A TERRA FAZ EM TORNO DE SI MESMA.



MARQUE QUANTO TEMPO A TERRA DEMORA PARA FAZER ESSE MOVIMENTO:

- ☐ 12 HORAS
- ☐ 24 HORAS
- ☐ 26 HORAS
- ☐ 6 HORAS


TRANSLAÇÃO É O MOVIMENTO QUE A TERRA FAZ EM VOLTA DO SOL



QUAL É O PERÍODO QUE A TERRA LEVA PARA DAR UMA VOLTA INTEIRA EM TORNO DO SOL?

- ☐ UM DIA E UMA NOITE
- ☐ UM ANO
- ☐ UM DIA
- ☐ UMA SEMANA

A TERRA FOI CRIADA...PRIMEIRO DEUS FEZ OS OCEANOS E DEPOIS OS CONTINENTES QUE ANTES ERAM TODOS UNIDOS E ERA CHAMADA PANGEIA



OBSERVE O TEMPO CRONOLÓGICO DAS IMAGENS



1



2



3

ARRASTE OS NÚMEROS AOS PERÍODOS CORRESPONDENTES DO DIA:

☐

NOITE

☐

AMANHÃ

☐

TARDE

COLOQUE OS PERÍODOS DO DIA ARRASTANDO OS NOMES NAS FIGURAS:

TARDE



NOITE



AMANHÃ



IDENTIFIQUE O TEMPO DE CADA IMAGEM AOS SEUS SIGNIFICADOS:

TEMPO CRONOLÓGICO



TEMPO DA NATUREZA



AMPULHETA

RELÓGIO DO SOL

EVAPORAÇÃO
DA ÁGUA

FASES DO
DESENVOLVIMENTO
HUMANO

GERMINAÇÃO

RELÓGIO