

Geometrische Figuren


1 Wie viele Ecken sind es jeweils?

a)

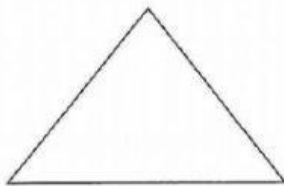
Das ist eine Ecke.



4 Ecken

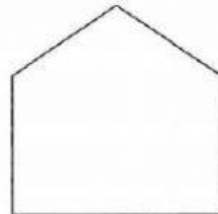


b)



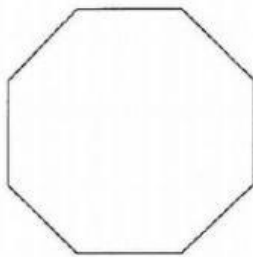
3 Ecken

c)




5 Ecken

d)



8 Ecken

e)



5 Ecken

2 Wie viele Seiten sind es jeweils?

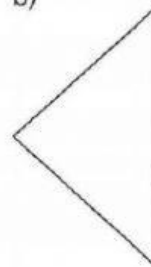
a)

Das ist eine Seite.



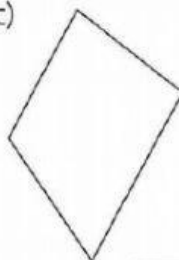
4 Seiten

b)



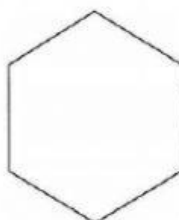
3 Seiten

c)



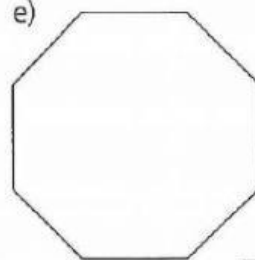
4 Seiten

d)



6 Seiten

e)



8 Seiten